

CORRECTION DU DEVOIR MAISON 5

Exercice 1. Centre de gravité de la dimension 1 à la dimension 3

(16 points)

Les figures seront réalisées sur une feuille de papier blanche.

1. On considère un segment $[AB]$ de longueur 5 cm, et G le point défini par :

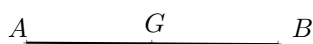
$$\overrightarrow{GA} + \overrightarrow{GB} = \vec{0}$$

- (a) On a :

$$\overrightarrow{GA} + \overrightarrow{GB} = \vec{0} \iff \overrightarrow{GA} + \overrightarrow{GA} + \overrightarrow{AB} = \vec{0} \iff \overrightarrow{AB} = 2\overrightarrow{AG} \iff \overrightarrow{AG} = \frac{\overrightarrow{AB}}{2}$$

Le point G est au milieu du segment $[AB]$.

- (b)



- (c) Quel que soit le point
- M
- du plan on a :

$$\overrightarrow{MA} + \overrightarrow{MB} = \overrightarrow{MG} + \overrightarrow{GA} + \overrightarrow{MG} + \overrightarrow{GB} = 2\overrightarrow{MG} + \overrightarrow{GA} + \overrightarrow{GB} = 2\overrightarrow{MG}$$

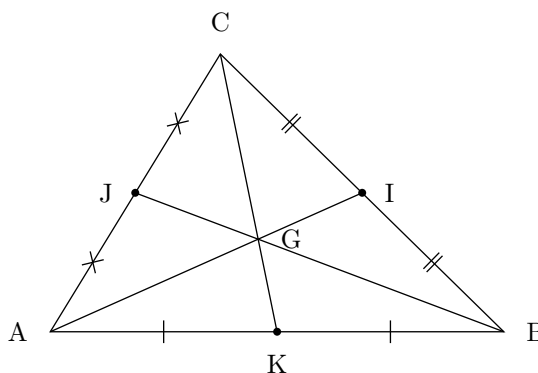
2. On considère un triangle ABC et G son centre de gravité défini par :

$$\overrightarrow{GA} + \overrightarrow{GB} + \overrightarrow{GC} = \vec{0}$$

- (a) Montrer que

$$\overrightarrow{GA} + \overrightarrow{GB} + \overrightarrow{GC} = \vec{0} \iff \overrightarrow{GA} + \overrightarrow{GA} + \overrightarrow{AB} + \overrightarrow{GA} + \overrightarrow{AC} = \vec{0} \iff \overrightarrow{AB} + \overrightarrow{AC} = 3\overrightarrow{AG} \iff \overrightarrow{AG} = \frac{\overrightarrow{AB} + \overrightarrow{AC}}{3}$$

- (b)



- (c) Quel que soit le point
- M
- du plan on a :

$$\overrightarrow{MA} + \overrightarrow{MB} + \overrightarrow{MC} = \overrightarrow{MG} + \overrightarrow{GA} + \overrightarrow{MG} + \overrightarrow{GB} + \overrightarrow{MG} + \overrightarrow{GC} = 3\overrightarrow{MG} + \overrightarrow{GA} + \overrightarrow{GB} + \overrightarrow{GC} = 3\overrightarrow{MG}$$

3. On considère un tétraèdre $ABCD$, notons G le point défini par

$$\overrightarrow{GA} + \overrightarrow{GB} + \overrightarrow{GC} + \overrightarrow{GD} = \vec{0}$$

(a) On a

$$\overrightarrow{GA} + \overrightarrow{GB} + \overrightarrow{GC} + \overrightarrow{GD} = \vec{0} \iff \overrightarrow{GA} + \overrightarrow{GA} + \overrightarrow{AB} + \overrightarrow{GA} + \overrightarrow{AC} + \overrightarrow{GA} + \overrightarrow{AD} = \vec{0} \iff \overrightarrow{AG} = \frac{\overrightarrow{AB} + \overrightarrow{AC} + \overrightarrow{AD}}{4}$$

(b) Démontrons dans un premier temps que

$$\overrightarrow{DG} = \frac{3}{4}\overrightarrow{DH}$$

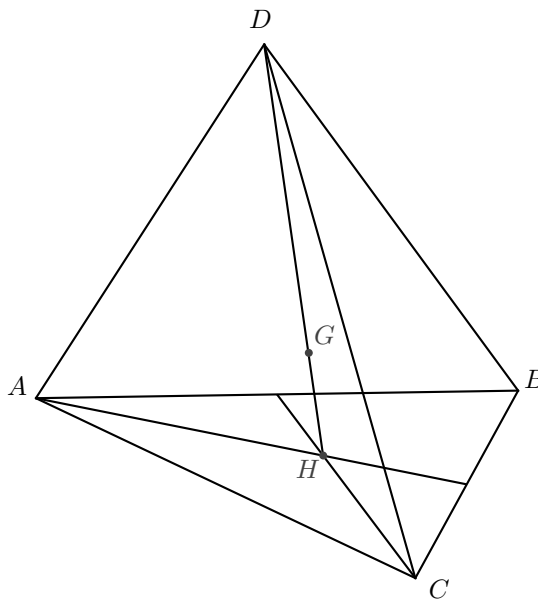
où H est le centre de gravité du triangle ABC .

D'après la partie précédente pour $M = G$ on a :

$$\overrightarrow{GA} + \overrightarrow{GB} + \overrightarrow{GC} = 3\overrightarrow{GH} = 3\overrightarrow{GD} + 3\overrightarrow{DH}$$

Ainsi :

$$\overrightarrow{GA} + \overrightarrow{GB} + \overrightarrow{GC} + \overrightarrow{GD} = \vec{0} \iff 3\overrightarrow{GD} + 3\overrightarrow{DH} + \overrightarrow{GD} = \vec{0} \iff 4\overrightarrow{GD} + 3\overrightarrow{DH} = \vec{0} \iff \overrightarrow{DG} = \frac{3}{4}\overrightarrow{DH}$$



(c) Quel que soit le point M de l'espace, on a :

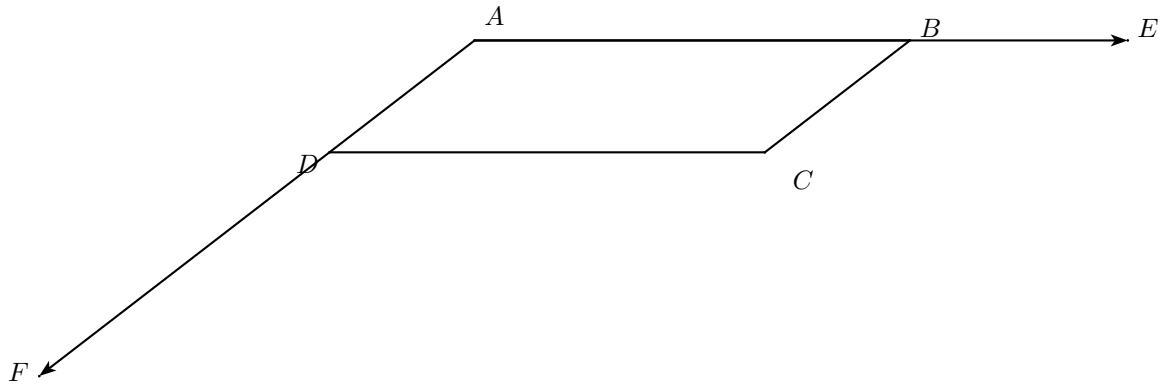
$$\overrightarrow{MA} + \overrightarrow{MB} + \overrightarrow{MC} + \overrightarrow{MD} = \overrightarrow{MG} + \overrightarrow{GA} + \overrightarrow{MG} + \overrightarrow{GB} + \overrightarrow{MG} + \overrightarrow{GC} + \overrightarrow{MG} + \overrightarrow{GD} = 4\overrightarrow{MG}$$

Exercice 2. Alignement

(4 points)

$ABCD$ est un parallélogramme.

1. Construire les points E et F définis par $\overrightarrow{AE} = \frac{3}{2}\overrightarrow{AB}$ et $\overrightarrow{DF} = -2\overrightarrow{DA}$



2. On a :

$$\overrightarrow{FE} = \overrightarrow{FA} + \overrightarrow{AE} = \overrightarrow{FD} + \overrightarrow{DA} + \frac{3}{2}\overrightarrow{AB} = -2\overrightarrow{AD} - \overrightarrow{AD} = \frac{3}{2}\overrightarrow{AB} - 3\overrightarrow{AD}$$

De plus,

$$\overrightarrow{CE} = \overrightarrow{CB} + \overrightarrow{BE} = \overrightarrow{DA} + \frac{1}{2}\overrightarrow{AB} = \frac{1}{2}\overrightarrow{AB} - \overrightarrow{AD}$$

3. Par conséquent, en utilisant les résultats de la question précédente on a :

$$\overrightarrow{FE} = \frac{3}{2}\overrightarrow{AB} - 3\overrightarrow{AD} = 3\left(\frac{1}{2}\overrightarrow{AB} - \overrightarrow{AD}\right) = 3\overrightarrow{CE}$$

Ce qui démontre que les vecteurs \overrightarrow{FE} et \overrightarrow{CE} sont colinéaires.

4. Comme \overrightarrow{FE} et \overrightarrow{CE} sont colinéaires on en déduit que E , F et C sont alignés.