

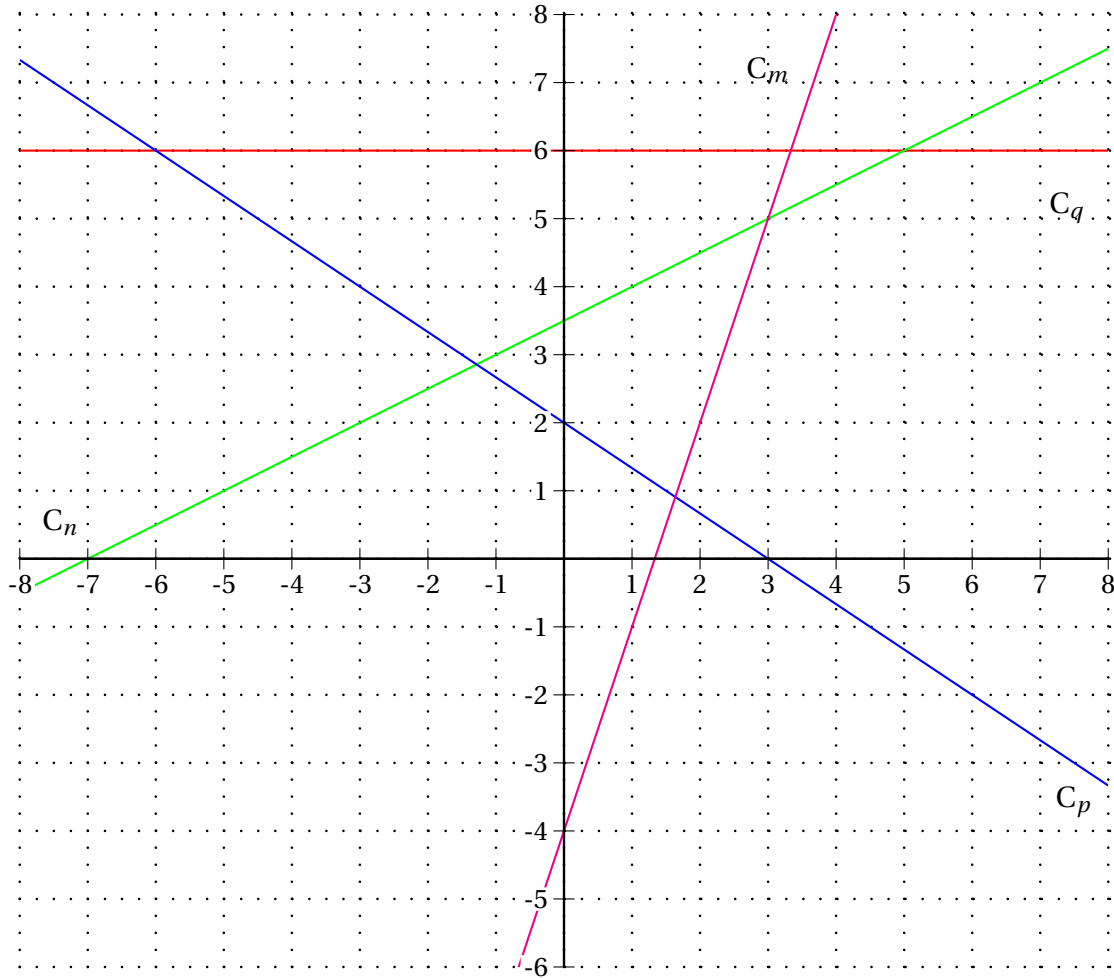



INTERRO N° 15

 **Exercice 1** : Tracer la droite d'équation $y = 2 - \frac{1}{5}x$ dans le repère ci-dessous par la méthode votre choix.

 **Exercice 2** : Lire graphiquement les expressions des fonctions affines représentées ci-dessous :



INTERRO N° 15

 **Exercice 3** : Tracer la droite d'équation $y = 4 - \frac{1}{3}x$ dans le repère ci-dessous par la méthode votre choix.

 **Exercice 4** : Lire graphiquement les expressions des fonctions affines représentées ci-dessous :

