

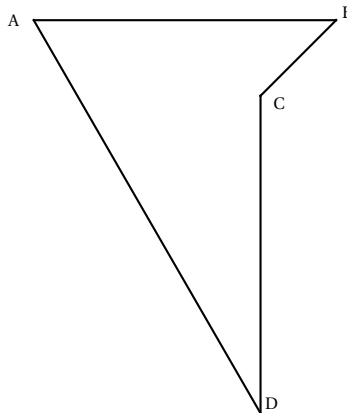
## CORRECTION DU DEVOIR MAISON 2

### Exercice 1. Angles de vecteurs

ABCD est un polygone tel que :

$$(\overrightarrow{AB}; \overrightarrow{AD}) = -\frac{\pi}{3} \quad (\overrightarrow{BA}; \overrightarrow{BC}) = \frac{\pi}{4} \quad \text{et} \quad (\overrightarrow{DA}; \overrightarrow{DC}) = -\frac{\pi}{6}$$

1. Dessiner ce polygone tel que  $AB = 4$  cm et  $AD = 6$  cm.



2. Déterminer des mesures de  $(\overrightarrow{CB}; \overrightarrow{AB})$  et  $(\overrightarrow{AD}; \overrightarrow{CD})$

On utilise les propriétés sur les angles de vecteurs :

$$(\overrightarrow{CB}; \overrightarrow{AB}) = (-\overrightarrow{BC}; -\overrightarrow{AB}) = (\overrightarrow{BC}; \overrightarrow{BA}) = -(\overrightarrow{BA}; \overrightarrow{BC}) = -\frac{\pi}{4} [2\pi]$$

Et de même on a :

$$(\overrightarrow{AD}; \overrightarrow{CD}) = (-\overrightarrow{DA}; -\overrightarrow{DC}) = (\overrightarrow{DA}; \overrightarrow{DC}) = -\frac{\pi}{6} [2\pi]$$

3. A l'aide de la relation de Chasles, calculer la mesure principale de  $(\overrightarrow{CB}; \overrightarrow{CD})$

On utilise la relation de Chasles afin de trouver une mesure de l'angle  $(\overrightarrow{CB}; \overrightarrow{CD})$  :

$$(\overrightarrow{CB}; \overrightarrow{CD}) = (\overrightarrow{CB}; \overrightarrow{AB}) + (\overrightarrow{AB}; \overrightarrow{AD}) + (\overrightarrow{AD}; \overrightarrow{CD}) = -\frac{\pi}{4} + \left(-\frac{\pi}{3}\right) + \left(-\frac{\pi}{6}\right) = -\frac{\pi}{4} - \frac{\pi}{3} - \frac{\pi}{6} = -\frac{3\pi + 4\pi + 2\pi}{12} = -\frac{9\pi}{12} = -\frac{3\pi}{4}$$

De plus  $-\pi < -\frac{3\pi}{4} < \pi$ , par conséquent la mesure principale de l'angle  $(\overrightarrow{CB}; \overrightarrow{CD})$  est  $-\frac{3\pi}{4}$  rad.

### Exercice 2. Equations trigonométriques

1. Résoudre dans  $\mathbb{R}$  les équations trigonométriques suivantes :

(a)  $\sin x = \sin \frac{\pi}{4} \iff x = \frac{\pi}{4} [2\pi] \quad \text{ou} \quad x = \pi - \frac{\pi}{4} [2\pi].$

On conclut que  $x = \frac{\pi}{4} + 2k\pi$  avec  $k \in \mathbb{Z}$  où  $x = \frac{3\pi}{4} + 2k\pi$  avec  $k \in \mathbb{Z}$ .

$$\mathcal{S} = \left\{ \frac{\pi}{4} + 2k\pi; \frac{3\pi}{4} + 2k\pi \quad \text{avec} \quad k \in \mathbb{Z} \right\}$$

(b)  $\cos\left(x - \frac{\pi}{2}\right) = -\cos \frac{\pi}{6} \iff \cos\left(x - \frac{\pi}{2}\right) = -\frac{\sqrt{3}}{2} \iff \cos\left(x - \frac{\pi}{2}\right) = \cos\left(\frac{5\pi}{6}\right)$

Ainsi  $x - \frac{\pi}{2} = \frac{5\pi}{6} + 2k\pi$  ou  $x - \frac{\pi}{2} = -\frac{5\pi}{6} + 2k\pi$  avec  $k \in \mathbb{Z}$ .

Par conséquent  $x = \frac{5\pi}{6} + \frac{\pi}{2} + 2k\pi = \frac{8\pi}{6} + 2k\pi = \frac{4\pi}{3} + 2k\pi$  ou  $x = -\frac{5\pi}{6} + \frac{\pi}{2} + 2k\pi = -\frac{2\pi}{6} + 2k\pi = -\frac{\pi}{3} + 2k\pi$  avec  $k \in \mathbb{Z}$ .

$$\mathcal{S} = \left\{ \frac{4\pi}{3} + 2k\pi; -\frac{\pi}{3} + 2k\pi \quad \text{avec} \quad k \in \mathbb{Z} \right\}$$

$$(c) \sin 2x = \frac{1}{2} \iff 2x = \frac{\pi}{6} + 2k\pi \quad \text{ou} \quad 2x = \frac{5\pi}{6} + 2k\pi \quad \text{avec } k \in \mathbb{Z}.$$

Par conséquent :  $x = \frac{\pi}{12} + k\pi$  ou  $x = \frac{5\pi}{12} + k\pi$  avec  $k \in \mathbb{Z}$ , d'où :

$$\mathcal{S} = \left\{ \frac{\pi}{12} + k\pi; \frac{5\pi}{12} + k\pi \quad \text{avec } k \in \mathbb{Z} \right\}$$

i.e :

$$\mathcal{S} = \left\{ \frac{\pi}{12} + 2k\pi; \frac{13\pi}{12} + 2k\pi; \frac{5\pi}{12} + 2k\pi; -\frac{7\pi}{12} + 2k\pi \quad \text{avec } k \in \mathbb{Z} \right\}$$

$$(d) \cos x = -\frac{\sqrt{3}}{2} \iff x = \frac{5\pi}{6} + 2k\pi \quad \text{ou} \quad x = -\frac{5\pi}{6} + 2k\pi \quad \text{avec } k \in \mathbb{Z}. \text{ Au final :}$$

$$\mathcal{S} = \left\{ \frac{5\pi}{6} + 2k\pi; -\frac{5\pi}{6} + 2k\pi \quad \text{avec } k \in \mathbb{Z} \right\}$$

2. (a) Montrer que  $\cos \frac{\pi}{5} = \sin \frac{3\pi}{10}$ .

On sait que pour tout  $x \in \mathbb{R}$  on a :  $\sin\left(\frac{\pi}{2} - x\right) = \cos x$ , appliquons cette égalité pour  $x = \frac{\pi}{5}$ , et on obtient :

$$\sin\left(\frac{\pi}{2} - \frac{\pi}{5}\right) = \cos \frac{\pi}{5} \iff \sin \frac{3\pi}{10} = \cos \frac{\pi}{5}$$

(b) Résoudre dans  $\mathbb{R}$  l'équation trigonométrique :

$$\cos x = \sin \frac{3\pi}{10}$$

On vient de montrer que  $x = \frac{\pi}{5}$  est solution de cette équation, par conséquent :

$$\cos x = \sin \frac{3\pi}{10} \iff \cos x = \cos \frac{\pi}{5} \iff x = \frac{\pi}{5} + 2k\pi \quad \text{ou} \quad x = -\frac{\pi}{5} + 2k\pi \quad \text{avec } k \in \mathbb{Z}$$

$$\mathcal{S} = \left\{ \frac{\pi}{5} + 2k\pi; -\frac{\pi}{5} + 2k\pi \quad \text{avec } k \in \mathbb{Z} \right\}$$

### Exercice 3.

Un élève propose deux « nouvelles » formules à ajouter aux formules trigonométriques classiques :

$$\cos 2a = 2 \cos a \tag{1}$$

$$\sin 2a = 2 \sin a \tag{2}$$

Ces deux formules sont-elles :

1. vraies pour tout nombre réel  $a$  ?

Ces formules ne sont pas vraies pour tout nombre réel  $a$ . Prenons l'exemple de  $\frac{\pi}{3}$  :

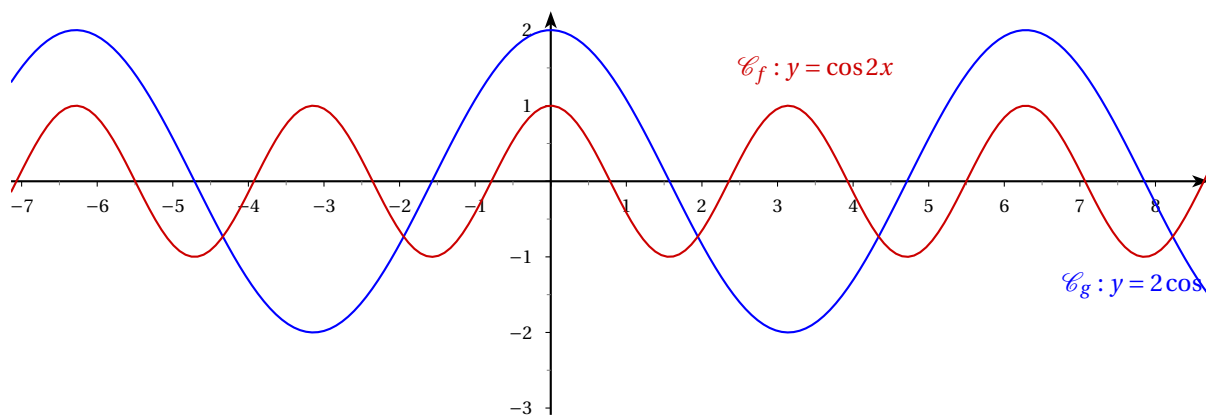
$$\cos\left(2 \times \frac{\pi}{3}\right) = -\frac{1}{2} \neq 2 \cos \frac{\pi}{3} = 1$$

De même :

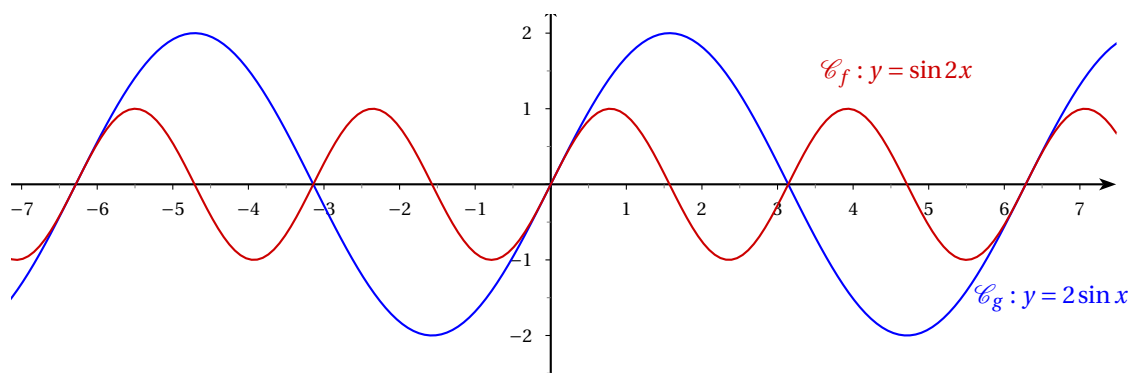
$$\sin\left(2 \times \frac{\pi}{3}\right) = \frac{\sqrt{3}}{2} \neq 2 \sin \frac{\pi}{3} = \sqrt{3}$$

2. vraies pour quelques valeurs de  $a$  ? Si oui, lesquelles ?

Il n'existe a priori aucune solution évidente à ce problème. On décide alors de tracer la représentation graphique de la fonction  $f$  où  $f(x) = \cos 2x$  et de la fonction  $g$  où  $g(x) = 2 \cos x$ .



Il existe des points d'intersection entre les deux courbes, par conséquent il existe des valeurs de  $a$  telles que  $f(a) = g(a)$ .  
 En procédant de la même manière pour la deuxième égalité on observe :



L'égalité a lieu lorsque  $2 \sin x = 0 \iff \sin x = 0 \iff x = 0 + k\pi$  avec  $k \in \mathbb{Z}$

3. fausses pour toute valeur de  $a$ ?

Les réponses à la question précédente impliquent que les deux formules ne sont pas fausses pour toute valeur de  $a$ .

**Exercice 4.** On se propose de résoudre l'équation (E) :

$$\cos x + \sin x = \sqrt{2} \quad \text{pour } x \in \left[-\frac{\pi}{2}; \frac{\pi}{2}\right]$$

1. (E) admet une « solution évidente ». Laquelle?

Pour  $x = \frac{\pi}{4}$  on a :

$$\cos \frac{\pi}{4} + \sin \frac{\pi}{4} = \frac{\sqrt{2}}{2} + \frac{\sqrt{2}}{2} = \sqrt{2}$$

Ainsi  $\frac{\pi}{4}$  est une solution évidente de (E).

2. (a) Soit P le polynôme du second degré définie sur  $\mathbb{R}$  par :

$$P(x) = 2x^2 - 2\sqrt{2}x + 1$$

Déterminer la forme canonique de P.

On cherche les antécédents de c, donc de 1.

$$\begin{aligned} P(x) &= 1 && (3) \\ \iff 2x^2 - 2\sqrt{2}x + 1 &= 1 && (4) \\ \iff 2x^2 - 2\sqrt{2}x &= 0 && (5) \\ \iff x^2 - \sqrt{2}x &= 0 && (6) \\ \iff x(x - \sqrt{2}) &= 0 && (7) \\ \iff x = 0 \quad \text{ou} \quad x &= \sqrt{2} && (8) \end{aligned}$$

L'équation de l'axe de symétrie de la parabole est donc  $x = \frac{\sqrt{2}}{2}$ , ainsi  $\alpha = \frac{\sqrt{2}}{2}$  et :

$$\beta = P(\alpha) = 2 \left( \frac{\sqrt{2}}{2} \right)^2 - 2\sqrt{2} \times \frac{\sqrt{2}}{2} + 1 = 1 - 2 + 1 = 0$$

La forme canonique de P est donc :

$$P(x) = 2 \left( x - \frac{\sqrt{2}}{2} \right)^2$$

(b) A l'aide de la question précédente déterminer l'antécédent de 0 par P.

$$P(x) = 0 \tag{9}$$

$$\Leftrightarrow 2 \left( x - \frac{\sqrt{2}}{2} \right)^2 = 0 \tag{10}$$

$$\Leftrightarrow \left( x - \frac{\sqrt{2}}{2} \right)^2 = 0 \tag{11}$$

$$\Leftrightarrow x - \frac{\sqrt{2}}{2} = 0 \tag{12}$$

$$\Leftrightarrow x = \frac{\sqrt{2}}{2} \tag{13}$$

0 n'a qu'un antécédent qui est  $\frac{\sqrt{2}}{2}$ .

(c) En posant  $X = \cos x$  et  $Y = \sin x$  et ajoutant une équation supplémentaire toujours vérifiée par X et Y, former un système de deux équations à deux inconnues que l'on résoudra (en utilisant le résultat de la question précédente).

On sait que  $\forall x \in \mathbb{R}$  on a  $\cos^2 x + \sin^2 x = 1 \Leftrightarrow X^2 + Y^2 = 1$ , par conséquent X et Y vérifient le système suivant :

$$\begin{cases} X^2 + Y^2 = 1 \\ X + Y = \sqrt{2} \end{cases} \Leftrightarrow \begin{cases} X^2 + Y^2 = 1 \\ Y = \sqrt{2} - X \end{cases} \Leftrightarrow \begin{cases} X^2 + (\sqrt{2} - X)^2 = 1 \\ Y = \sqrt{2} - X \end{cases} \Leftrightarrow \begin{cases} X^2 + 2 - 2\sqrt{2}X + X^2 = 1 \\ Y = \sqrt{2} - X \end{cases} \Leftrightarrow \begin{cases} 2X^2 - 2\sqrt{2}X + 1 = 0 \\ Y = \sqrt{2} - X \end{cases}$$

Ainsi  $2X^2 - 2\sqrt{2}X + 1 = 0 \Leftrightarrow P(X) = 0 \Leftrightarrow X = \frac{\sqrt{2}}{2}$ .

Par conséquent  $Y = \sqrt{2} - X = \sqrt{2} - \frac{\sqrt{2}}{2} = \frac{\sqrt{2}}{2}$ . On a déterminé les valeurs de X et Y, d'où :

$$\begin{cases} X = \cos x \\ Y = \sin x \end{cases} \Leftrightarrow \begin{cases} \cos x = \frac{\sqrt{2}}{2} \\ \sin x = \frac{\sqrt{2}}{2} \end{cases} \Leftrightarrow x = \frac{\pi}{4} + 2k\pi \quad \text{avec } k \in \mathbb{Z}$$

L'ensemble des solutions de (E) est donc :

$$\mathcal{S}_E = \left\{ \frac{\pi}{4} + 2k\pi \quad \text{avec } k \in \mathbb{Z} \right\}$$

### Exercice 5. Sur les pas de Claude Ptolémée

A l'aide du théorème de Ptolémée :

**Théorème 1.**

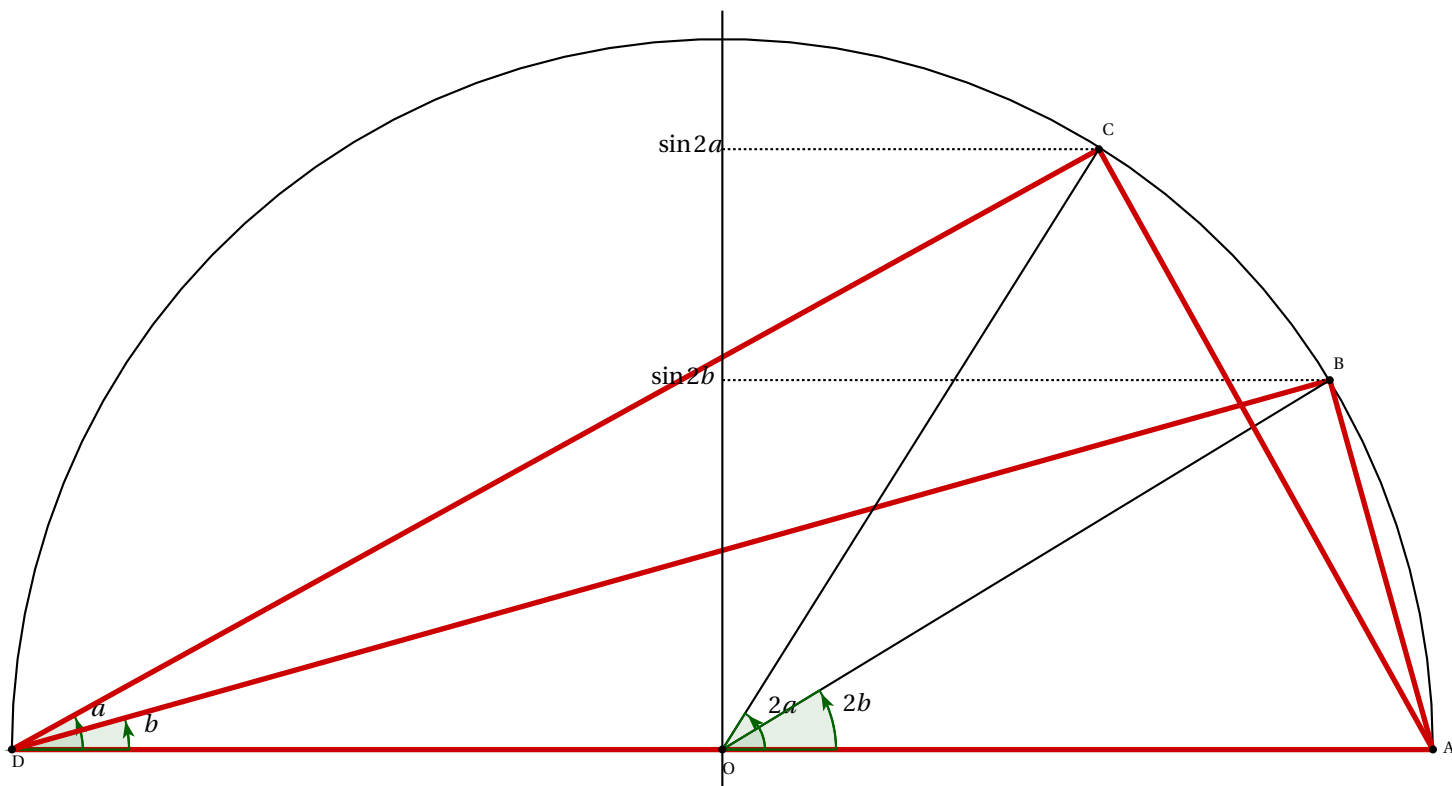
Si le quadrilatère convexe ABCD est inscrit dans un cercle, alors :

$$AB \times CD + BC \times AD = AC \times BD$$

démontrons que : « si  $0 < b < a < \frac{\pi}{2}$ , alors  $\sin(a - b) = \sin a \cos b - \sin b \cos a$  ».

Sur le demi-cercle de diamètre AD = 1 et de centre O, on place les points B et C tels que :

$$(\overrightarrow{DA}; \overrightarrow{DC}) = a \quad \text{et} \quad (\overrightarrow{DA}; \overrightarrow{DB}) = b$$



- Déterminer en fonction de  $\sin a$ ,  $\sin b$ ,  $\cos a$  et  $\cos b$  les longueurs AB, BD, AC et DC.

Le triangle ABD est rectangle en B, par conséquent :

$$\sin b = \frac{AB}{AD} = AB \quad \text{et} \quad \cos b = \frac{BD}{AD} = BD$$

De la même manière le triangle ACD est rectangle en C, par conséquent :

$$\sin a = \frac{AC}{AD} = AC \quad \text{et} \quad \cos a = \frac{DC}{AD} = DC$$

- Montrer que

$$(\overrightarrow{OB}; \overrightarrow{OC}) = 2a - 2b$$

D'après le théorème de l'angle au centre dans un cercle on a :

$$(\overrightarrow{OA}; \overrightarrow{OB}) = 2 \times (\overrightarrow{DA}; \overrightarrow{DB}) = 2b \quad ; \quad (\overrightarrow{OA}; \overrightarrow{OC}) = 2 \times (\overrightarrow{DA}; \overrightarrow{DC}) = 2a$$

On en déduit, en utilisant la relation de Chasles que :

$$(\overrightarrow{OB}; \overrightarrow{OC}) = (\overrightarrow{OB}; \overrightarrow{OA}) + (\overrightarrow{OA}; \overrightarrow{OC}) = -(\overrightarrow{OA}; \overrightarrow{OB}) + (\overrightarrow{OA}; \overrightarrow{OC}) = -2b + 2a = 2a - 2b$$

En déduire que  $BC = \sin(a - b)$ .

Dans le triangle OBC isocèle en O, on considère la hauteur issue de O qui est aussi médiane et bissectrice dans le triangle OBC. Notons I le milieu de [BC].

Dans le triangle rectangle OIB on a :

$$\sin\left(\frac{2a - 2b}{2}\right) = \frac{IB}{OB} \iff \sin(a - b) = \frac{\frac{1}{2}BC}{\frac{1}{2}} \iff \sin(a - b) = BC$$

3. Conclure à l'aide du théorème de Ptolémée.

D'après le théorème de Ptolémée on a, dans le cas où  $0 < b < a < \frac{\pi}{2}$  alors ABCD est un quadrilatère convexe donc :

$$AB \times CD + BC \times AD = AC \times BD \iff \sin b \times \cos a + \sin(a - b) \times 1 = \sin a \times \cos b \iff \sin(a - b) = \sin a \cos b - \sin b \cos a$$

**Exercice 6.** *Problème ouvert : un escargot se déplace.*

Un escargot se déplace dans un potager rectangulaire de dimensions 3 m × 4 m.

Un repère orthonormé (O; I, J) est tracé sur le sol tel que :

- O est le centre du potager ;
- $\overrightarrow{OI}$  a pour direction la longueur du potager ;
- le plan est orienté.

L'escargot part de O et avance à la vitesse de  $6 \text{ cm} \cdot \text{min}^{-1}$  en suivant l'axe des abscisses dans le sens positif pendant 1 minute, puis tourne d'un angle de  $\frac{\pi}{45}$ . Il poursuit son chemin pendant 1 minute, tourne encore et ainsi de suite.

Arrivera-t-il sur une des clôtures en moins de 2 heures ? Voici ici un dessin représentant le déplacement de notre escargot dans un potager rectangulaire. On s'aperçoit graphiquement qu'il va sortir du potager en moins d'une demi-heure.

