

## CHAPITRE 6

# SE DÉPLACER ET SE REPÉRER DANS LE PLAN



## HORS SUJET

**TITRE :** « Autoportrait (1863) » et « Le Tub (1885) »

**AUTEUR :** EDGAR DEGAS

**PRÉSENTATION SUCCINCTE DE L'AUTEUR :** Edgar Degas (1834-1917)

est un peintre français, en général rattaché au mouvement impressionniste, formé à la fin du XIXe siècle, en réaction à la peinture académique de l'époque.

Sa carrière fut dès le départ influencée par les danseuses. En 1874, il commence à se faire connaître, les critiques louant ou dénigrant le réalisme de son travail. Il explore des thèmes comme les repasseuses ou les femmes à leur toilette, multipliant les points de vue audacieux, recherchant des effets lumineux et colorés. Il dit d'ailleurs à propos de ses nus : « Jusqu'à présent, le nu avait toujours été représenté dans des poses qui supposent un public. Mais mes femmes sont des gens simples... Je les montre sans coquetterie, à l'état de bêtes qui se nettoient. »

A partir des années 1880, Degas va aussi poser la question d'une sculpture « impressionniste », réalisant des modèles en cire peints au naturel, qu'il accessoirise ensuite. Seule *La Grande Danseuse* (cf première page) fut présentée de son vivant, les autres modèles l'aidant surtout dans ses peintures. Cette incarnation de la grâce et de l'innocence trahit en réalité la fascination de Degas pour la criminalité. En effet, avec son visage est sculpté sur le modèle des physionomies de criminels définies à l'époque, et la danseuse était un parfait « petit rat », transmettant la syphilis aux bourgeois venant la voir ...



Document réalisé à l'aide de  $\text{\LaTeX}$

Auteur : C. Aupérin

Site : [wicky-math.fr.nf](http://wicky-math.fr.nf)

Lycée : Jules Fil (Carcassonne)

## Table des matières

<b>I) Décrire un déplacement rectiligne</b>	<b>1</b>
I-1 Un nouveau déplacement : la translation . . . . .	1
I-2 De nouveaux objets : les vecteurs . . . . .	4
<b>II) Opérations sur les vecteurs</b>	<b>7</b>
II-1 Somme de vecteurs . . . . .	7
II-2 Conséquences . . . . .	9
<b>III) Le point sur les coordonnées d'un point</b>	<b>11</b>
III-1 Se repérer dans le plan . . . . .	11
III-2 Coordonnées du milieu d'un segment . . . . .	12
<b>IV) Repérer un déplacement rectiligne</b>	<b>13</b>
IV-1 Coordonnées d'un vecteur . . . . .	13
IV-2 Distance et norme dans un repère orthonormé . . . . .	15
IV-3 Opérations et coordonnées . . . . .	16
<b>V) Droites et colinéarité : Nouveau chapitre ??</b>	<b>17</b>
V-1 Vecteurs colinéaires . . . . .	17
V-2 Application à la géométrie . . . . .	18
V-3 Equation de droite . . . . .	18
V-4 Intersection de droites . . . . .	21

*« Quand quelqu'un paye un tableau 3 000 francs, c'est qu'il lui plaît.  
Quand il le paye 300 000 francs, c'est qu'il plaît aux autres. »*

EDGAR DEGAS

## LEÇON 3

# Se déplacer et se repérer dans le plan



Les planisphères et les cartes géographiques maritimes sont construits dans un repère comprenant l'axe vertical des latitudes et l'axe horizontal des longitudes.

La position d'un bateau par exemple est définie par ses coordonnées sur la cartes, c'est-à-dire la longitude et la latitude.

Lorsque l'on cherche une position sur un plan de ville, on se repère également à l'aide des axes verticaux et horizontaux du plan.

Nous allons donc poser les bases de ce repérage dans le plan.

De plus, nous allons découvrir une nouvelle transformation, et un nouvel outil essentiel, très utilisée notamment en physique : les vecteurs.

## I) Décrire un déplacement rectiligne

### I-1 Un nouveau déplacement : la translation

#### Travail de l'élève 1. Découverte d'une nouvelle transformation

Edgar le pigeon voyageur veut devenir agent du FBI (Federal Birds Investigation).

Pour cela, il doit être initié. Sa première épreuve est donnée par le message suivant :



#### **Message Top Secret**

« Vous devez sauver de la noyade des vers de terre primordiaux pour la sécurité des oiseaux.

Ils sont allés trop près d'une rivière en crue ces nigauds!

Pour cela, déplacez les vers de terre C, E et A suivant **la translation qui transforme A en B.**

PS : il est formellement interdit de les manger en route!

PPS : ce message s'autodétruit dans 30 secondes. »

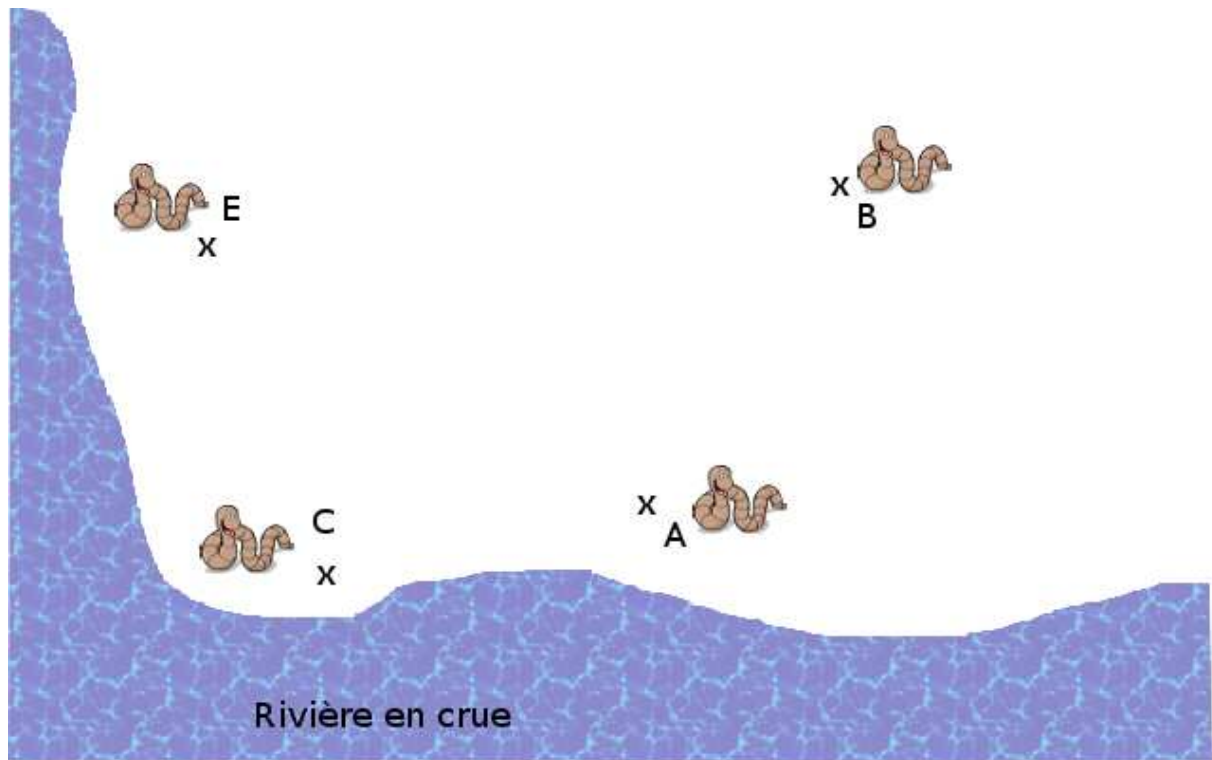
Edgar n'est qu'un pigeon, et se demande bien ce qu'est une translation ...

Il se remémore ses souvenirs de collègue en mathématiques, et se souvient d'avoir déjà déplacé des vers de terre, mais selon d'autres transformations.

1. A quelles transformations pense Edgar ?
2. Edgar va donc voir son ancien enseignant de mathématiques, M. Ragot, pour l'aider officieusement sur le sens de ce message. Voici ce que ce dernier lui explique :

« Pour déplacer le ver de terre C en D, tu dois faire en sorte que  $[AD]$  et  $[BC]$  aient le même milieu »

Où Edgar doit-il placer le point D sur le plan de la situation suivant? Expliquer votre démarche de construction.



3. Edgar prend ensuite son envol pour aller chercher le ver de terre E, mais il constate, vu d'en haut, que le quadrilatère ABDC est particulier et se demande s'il s'agit d'un hasard. Quelle est la nature de ABDC et pourquoi? **STOP PROF**



**Définition 1 :**

Soient A et B deux points du plan.

La **translation qui transforme A en B** est la transformation qui associe un point C à l'unique point D tel que [AD] et [BC] ont le même milieu, ce qui revient à dire à l'unique point D tel que ABDC soit un parallélogramme.



**Attention !**

L'ordre des lettres est important !

4. Déplacer alors le ver de terre E en F, en utilisant la constatation précédente (à la règle et au compas).
5. A quel endroit Edgar doit-il déplacer le ver de terre A ?
6. Edgar aime les énigmes, mais en regardant en vol les déplacements effectués des vers de terre, il trouve tout de même qu'on aurait pu les lui expliquer plus simplement. Et vous, quelle serait votre manière simple de l'expliquer à un camarade ?

**Objectifs :**

- Rappeler aux élèves qu'ils ont déjà vu des transformations
- Les pigeons donnent un côté ludique, tout en faisant bien comprendre que la translation est un déplacement, même si on n'étudiera pas cette transformation.

- Faire construire aux élèves des images de points par un même translation de différentes manières, en particulier sans quadrillage, pour bien remémorer les constructions au compas notamment (utiles pour les sommes)
- Introduire l'utilité de définir un nouvel objet mathématique : les vecteurs.

La dernière question de l'activité n'attend pas de réponse individuelle des élèves. Il s'agit plutôt d'une mise au point commune sur l'ensemble des constructions et d'un échange d'idées sur la définition initiale de la translation ainsi que la description précise d'un chemin. On espère d'eux qu'ils évoqueront la représentation par une flèche de ces chemins, le côté rectiligne, voire la direction, le sens et la longueur, sans formalisation.

Ensuite, pour compléter l'activité, il semble judicieux d'utiliser Géogébra afin d'introduire le vocabulaire. Pour cela, on peut projeter au tableau un quadrillage mais sans axe et un point A que l'on cherche à déplacer.

**Objectifs :**

- Faire apparaître la nécessité d'un chemin de référence (sous-jacente la notion de représentant de vecteur)
- Introduire le mot vecteur en affichant la « flèche » symbolisant le chemin à parcourir
- Rajouter ensuite d'autres points à déplacer selon la translation donnée, et chercher dans Géogébra si on peut le faire sans passer par les parallélogrammes (ni les carreaux). Ceci permet d'introduire la translation de vecteur.
- Le quadrillage permet de bien voir ce qui se passe, et l'absence d'axes évite de « figer » les vecteurs à un endroit précis.
- On peut ensuite faire d'autres translations, notamment celle de vecteur égal ou opposé au premier, ou des translations successives, etc, suivant la curiosité de la classe.

Dans toute cette partie, A et B désignent deux points du plan.



**Définition 2 :**

On associe à la translation qui transforme A en B un nouvel objet mathématique : le **vecteur**  $\overrightarrow{AB}$ .  
Il symbolise le déplacement rectiligne de A vers B et on le représente par une flèche allant de A vers B.  
On appellera désormais cette transformation la **translation de vecteur**  $\overrightarrow{AB}$ . On notera  $t_{\overrightarrow{AB}}$ .

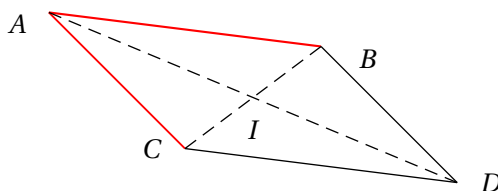
**Remarques :**

- On peut retenir que la translation de vecteur  $\overrightarrow{AB}$  revient à déplacer des points selon le même chemin que celui rectiligne qui va de A vers B.
- On comprend ainsi bien que la translation est un déplacement, ie qu'elle conserve les longueurs, l'alignement et les angles.



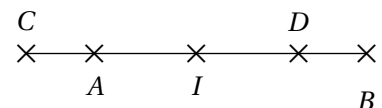
**Exemples : Avec les parallélogrammes**

A, B, et C trois points donnés non alignés :



[BC] et [AD] ont même milieu I  
ABDC est un parallélogramme

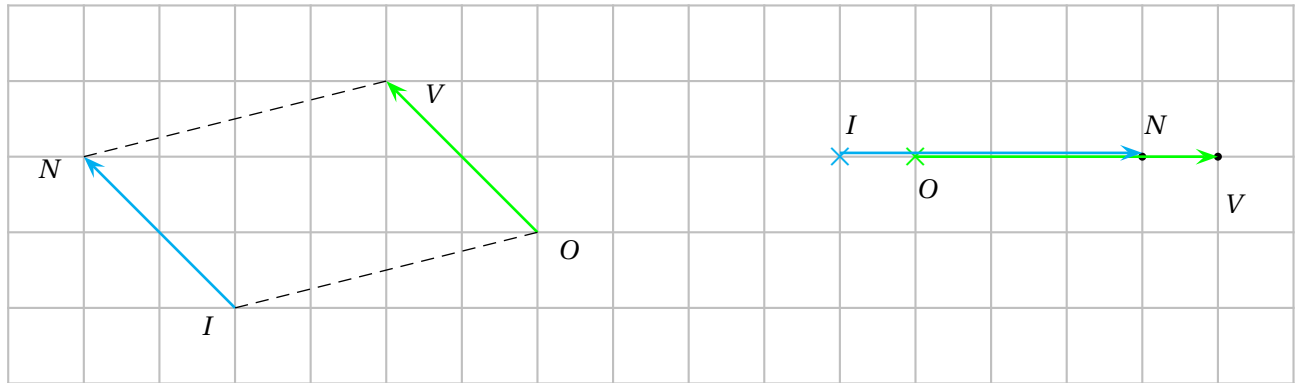
A, B, et C trois points donnés alignés :



[BC] et [AD] ont même milieu I  
ABDC est un parallélogramme aplati

 **Exemples : Avec les vecteurs et le quadrillage**

$O, V,$  et  $I$  non alignés



$O, V,$  et  $I$  alignés

$OVNI$  est un parallélogramme

$OVNI$  est un parallélogramme aplati

**Remarques :**


- Le mot vecteur vient du latin « vector », dérivé du verbe « vehere », qui signifie transporter. Un vector désigne donc un véhicule, par exemple à l'époque un chariot.
- Si les points  $A$  et  $B$  sont confondus, tout point  $M$  est confondu avec son image par la translation. Le vecteur  $\vec{AA}$  est appelé vecteur nul et on note  $\vec{AA} = \vec{0}$ .

 **Exercices du livre :**

n° 1-2 p 204

**I-2 De nouveaux objets : les vecteurs**

**Travail de l'élève 2.** Edgar le pigeon voyageur a réussi avec succès son initiation. Le FBI lui confie donc sa première mission officielle.

 **Message Top Secret**

« Suivez à distance Odile, un oiseau accro aux poissons rouges, elle vous guidera jusqu'à son Dealer. Pour cela, effectuez exactement le même déplacement qu'elle, mais depuis votre position de départ. Ensuite, laissez la rentrer chez elle et allez arrêter le Dealer.

*Signé : The Boss*

PS : il est formellement interdit de vous droguer avec les poissons rouges trouvés!  
PPS : ce message s'autodétruit dans 30 secondes. »

Voici le plan de la situation.



1. Odile prend le chemin le plus court pour aller de chez elle (O) à son Dealer (D).  
Représenter sur le graphique ce trajet par l'objet mathématique approprié et le nommer.
2. Edgar part du point E. Il suit la consigne du message top secret et effectue exactement le même déplacement qu'Odile. Comment s'appelle ce déplacement ?
3. Placer sur le graphique le point E' où Edgar se trouve alors.
4. Comme il s'agit de la première mission d'Edgar, the Boss décide de le suivre pour vérifier qu'il remplit correctement sa mission. Il suit donc Edgar en effectuant le même déplacement que lui, à partir de B. De quel déplacement s'agit-il ? Placer sur le graphique le point B' où le Boss se trouve alors.
5. Donner trois parallélogrammes sur le graphique.
6. Que pouvez-vous dire des vecteurs  $\overrightarrow{OD}$ ,  $\overrightarrow{EE'}$  et  $\overrightarrow{BB'}$  ?
7. Odile rentre directement chez elle. Représenter sur le graphique ce trajet retour et le nommer.
8. Quel lien ce vecteur a-t-il avec  $\overrightarrow{OD}$  ?
9. En regardant la situation globale, quelle translation Odile a-t-elle effectuée ?
10. Edgar va ensuite arrêter le Dealer en D. Représenter sur le graphique son trajet et le nommer.  
A-t-il un lien avec les vecteurs précédents ?
11. Si Edgar avait su dès le départ (point E) où était le Dealer, quel est trajet le plus court qu'il aurait pu faire ?

### Objectifs :

- Construire des translations grâce à des parallélogrammes, au compas.
- Constater que des vecteurs sont « les mêmes », donc « égaux » en vocabulaire mathématiques
- Introduire le vecteur opposé, le vecteur nul, et même la notion de somme sous jacente (aller + retour d'Odile, trajet complet d'Edgar)

**Propriété 1 : Égalité de vecteurs**

Soient  $A, B, C$  et  $D$  quatre points avec  $A$  et  $B$  distincts.

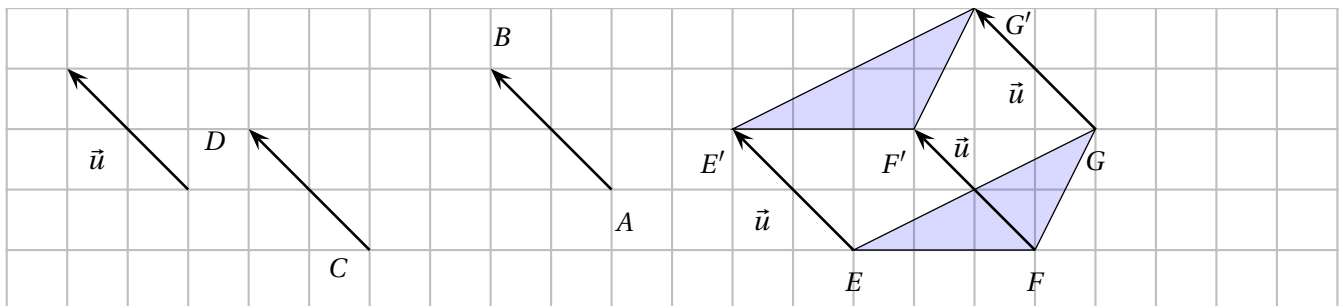
- $\vec{AB} = \vec{CD} \iff \vec{AB}$  et  $\vec{CD}$  sont associés à la même translation.
- $\iff D$  est l'image de  $C$  par la translation de vecteur  $\vec{AB}$
- $\iff ABDC$  est un parallélogramme, éventuellement aplati.
- $\iff [AD]$  et  $[BC]$  ont le même milieu
- $\iff \vec{AB}$  et  $\vec{CD}$  ont la même direction, le même sens et la même longueur.

**Remarques :**

- Si les vecteurs  $\vec{AB}$  et  $\vec{CD}$  sont égaux, on peut leur donner un même nom, par exemple  $\vec{u}$ . On dit que  $\vec{AB}$  et  $\vec{CD}$  sont des représentants du vecteur  $\vec{u}$ .
- Le vecteur nul n'a ni direction, ni sens et sa longueur vaut 0.
- Ainsi, un vecteur est indépendant de son origine, seul compte le trajet effectué entre son départ et son arrivée.
- La longueur d'un vecteur  $\vec{u}$  est aussi appelée **norme**. C'est un donc nombre positif ou nul. On la note  $||\vec{u}||$ . Ainsi  $||\vec{AB}|| = AB$ .

**Exemples :**

Sur la figure suivante :  $\vec{u} = \vec{CD} = \vec{AB}$  et  $E'F'G'$  est l'image de  $EFG$  par la translation de vecteur  $\vec{u}$ , représenté 6 fois, à 6 endroits différents (un vecteur n'a pas d'origine fixe, on peut le dessiner n'importe où).



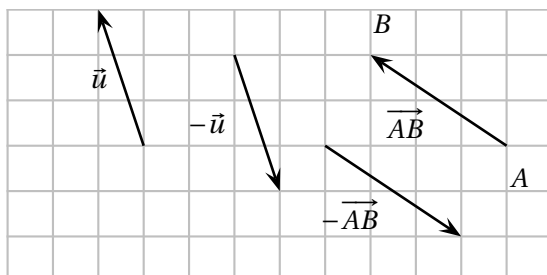
**Exemple :**

Associer à chaque égalité vectorielle la phrase correspondante, et illustrer chaque cas par un schéma :

- 1.  $\vec{AD} = \vec{DB}$  (a)  $ABCD$  est un parallélogramme
- 2.  $\vec{AB} = \vec{CD}$  (b)  $ABDC$  est un parallélogramme
- 3.  $\vec{AD} = \vec{BC}$  (c)  $D$  est le milieu de  $[AB]$

**Définition 3 : Vecteur opposé**

Le **vecteur opposé** au vecteur  $\vec{AB}$  est le vecteur associé à la translation qui transforme  $B$  et  $A$ . C'est le vecteur  $\vec{BA}$ , aussi noté  $-\vec{AB}$ .



**Remarque :** Deux vecteurs sont opposés lorsqu'ils ont la même direction, la même longueur, mais des sens opposés.

**Exercices du livre :**

n° 5-6-7-9-10 p 204



## II) Opérations sur les vecteurs

### II-1 Somme de vecteurs

**Travail de l'élève 3.** Edgar le pigeon voyageur est désormais un agent certifié du FBI.

Pour sa nouvelle mission, il s'est rendu sur l'île Noire. A l'aéroport, the Boss lui remet le message suivant :



**Message Top Secret**

« Vous devez trouver Titi, un Tigre Terroriste qui passe son temps à torturer les oiseaux de l'île Noire.

Ci-joint le schéma de l'île. L'Aéroport où nous sommes est au point A.

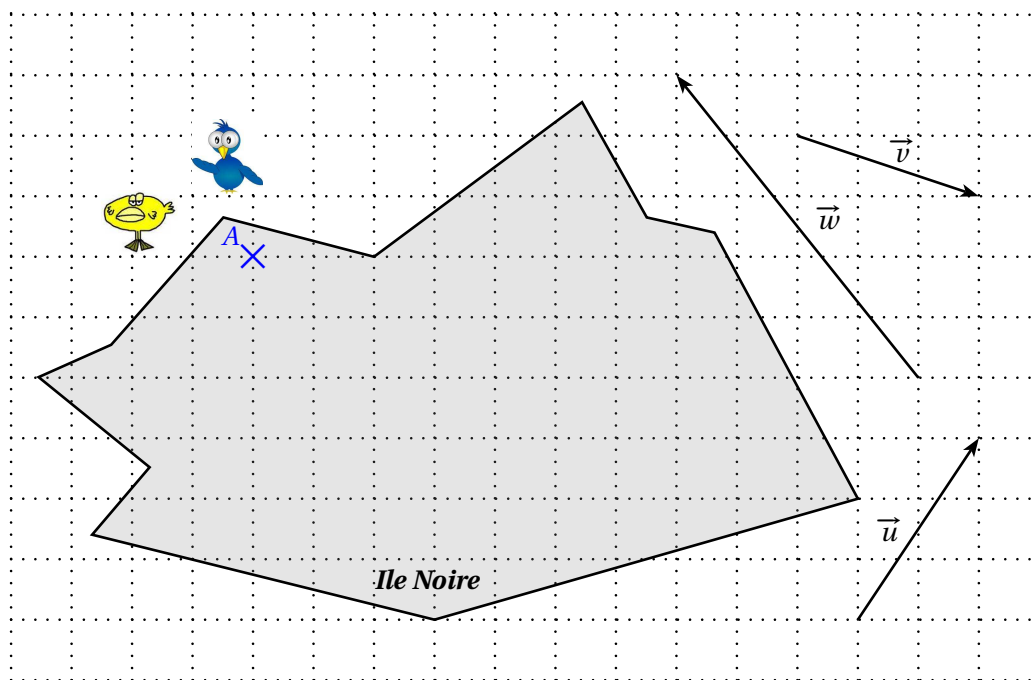
Rejoignez de suite votre Indicateur au point I tel que  $\vec{AI} = -\vec{u}$ .

Lorsque vous connaîtrez la position de Titi, vous m'indiquerez un chemin pour aller l'arrêter.

Signé : The Boss

PS : Attention, il y a un repère de Pirates sur l'île, ne vous égarez pas !

PPS : Ce message s'autodétruira dans 30 secondes. »



- Placer le point I sur le schéma.
- Edgar va donc jusqu'en I retrouver son Indicateur. Il lui demande, apeuré, la position des Pirates.



**Indice 1**

« Les Pirates se trouvent au point P. Pour le situer depuis l'Aéroport, il faut se déplacer successivement selon la translation de vecteur  $\vec{u}$  puis selon celle de vecteur  $\vec{v}$ . »

Placer le point P sur le schéma.

**STOP PROF**

**Questions orales :**

- Comment pourrait-on décrire le vecteur  $\vec{AP}$  en fonction des vecteurs  $\vec{u}$  et  $\vec{v}$  ?
- L'ordre dans lequel on effectue les translations a-t-il une importance ?
- On nomme C l'image de A par la translation de vecteur  $\vec{u}$ .
  - Ecrire cette phrase en mathématiques.
  - Comment pourrait-on décrire le vecteur  $\vec{AP}$  en fonction des vecteurs  $\vec{AC}$  et  $\vec{CP}$  ?

- L'Indicateur donne ensuite l'indice suivant à Edgar :

**Indice 2**

« Si tu pars du point T, où se cache Titi, et que tu effectues la translation de vecteur  $\vec{w}$ , alors tu seras chez les Pirates. »

Où se trouve Titi ?

4. Quelle translation permet aux Pirates d'aller de leur repère à la cachette de Titi ?
5. Edgar téléphone ensuite à the Boss pour lui décrire la translation de vecteur  $\vec{AT}$  à effectuer.
  - a. Décrire cette translation en fonction des vecteurs  $\vec{u}$ ,  $\vec{v}$  et  $\vec{w}$ , puis en fonction de  $\vec{u}$  seulement.
  - b. Quelle égalité de vecteurs peut-on en déduire ?
6. Edgar de son côté, doit effectuer la translation de vecteur  $\vec{IT}$ .
  - a. Donner deux descriptions différentes de ce vecteur en fonction des points de la figure.
  - b. Quelles égalités vectorielles peut-on en déduire ?

**Objectifs :**

- Travailler sur les vecteurs opposés et représentant de vecteurs (translation de vecteur opposé, retrouver l'origine en connaissant l'arrivée)
- Introduire la notion de somme de vecteurs en construisant des translations successives
- Amener les élèves eux-mêmes à parler de multiplication de vecteurs par un nombre entier positif, afin d'en saisir le sens à partir de l'addition, même si cette opération est censé être présentée avec les coordonnées.
- Introduire la relation de Chasles et la manipuler « dans tous les sens », constater qu'elle ne s'applique pas si on a des coefficients différents devant les vecteurs que l'on ajoute, etc

Dans la suite du chapitre,  $\vec{u}$  et  $\vec{v}$  désignent deux vecteurs quelconques du plan, et  $A$ ,  $B$  et  $C$  trois points.




**Définition 4 : Somme de vecteurs**

On dit que le vecteur de la translation obtenue en appliquant successivement les translations de vecteur  $\vec{u}$  et  $\vec{v}$ , est la **somme des vecteurs**  $\vec{u}$  et  $\vec{v}$ .

Ce vecteur est noté  $\vec{u} + \vec{v}$ .

**Illustrations :**



$\vec{AC}$  et  $\vec{AB} + \vec{BC}$   
sont associés  
à la même translation  
donc  $\vec{AC} = \vec{AB} + \vec{BC}$

On en déduit immédiatement le résultat suivant.



**Propriété 2 : Relation de Chasles**

Pour tous points  $A$ ,  $B$  et  $C$  :

$$\vec{AC} = \vec{AB} + \vec{BC}$$

**Remarques :**

- On retiendra que pour les vecteurs, les « détours » ne comptent pas.  
Ainsi, aller de  $A$  en  $B$ , puis de  $B$  en  $C$  revient à aller directement de  $A$  en  $C$ .

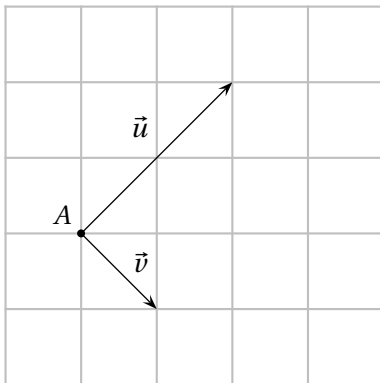
–  $(\vec{u} + \vec{v}) + \vec{w} = \vec{u} + (\vec{v} + \vec{w})$ ,  $\vec{u} + \vec{v} = \vec{v} + \vec{u}$  et  $\vec{u} + \vec{0} = \vec{u}$ .

Autrement dit, l'addition de vecteurs possède les mêmes propriétés que l'addition de réels (associativité, commutativité, élément neutre).

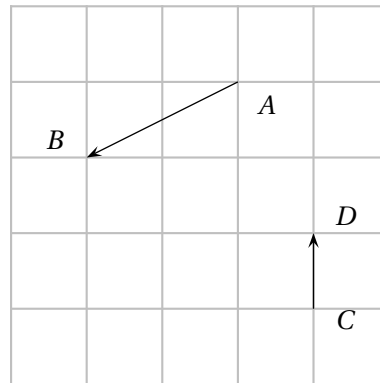
– Pour construire l'image d'un point  $M$  par une translation associée à une somme de vecteurs, on dispose les vecteurs « bout à bout » en partant du point  $M$ .

**Exemples :**

1. Construire  $M$  tel que  $\vec{AM} = \vec{u} + \vec{v}$  sur le schéma ci-dessous :



2. Construire  $E$  sur le schéma ci-dessous tel que  $\vec{DE} = \vec{AB} + \vec{CD}$



**Exemple :**

Montrer que pour tous points  $A, B, C$  et  $D$  on a :  $\vec{AB} + \vec{DC} + \vec{CA} + (-\vec{DB}) = \vec{0}$ .

Vérifier sur une figure.

**Exercices du livre :**

n° 24-25-26-27-29-30 p 206

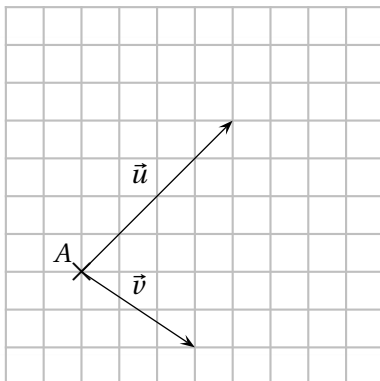
**II-2 Conséquences**

**Définition 5 : Différence de vecteurs**

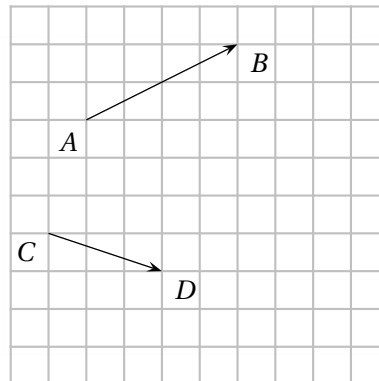
La différence de deux vecteurs  $\vec{u}$  et  $\vec{v}$  est le vecteur noté  $\vec{u} - \vec{v}$  obtenu en ajoutant à  $\vec{u}$  l'opposé de  $\vec{v}$ .  
Autrement dit, on a  $\vec{u} - \vec{v} = \vec{u} + (-\vec{v})$ .

**Exemples :**

1. Construire  $M$  tel que  $\vec{AM} = \vec{u} - \vec{v}$  sur le schéma ci-dessous :



2. Construire  $E$  sur le schéma ci-dessous tel que  $\vec{DE} = \vec{AB} - \vec{CD}$




 **Exemple :**

Montrer que pour tous points  $E, F, G$  et  $H$  on a :  $-\vec{FE} + \vec{HG} - \vec{EG} + \vec{FH} = \vec{0}$ .  
Vérifier sur une figure.

 **Exercices du livre :**

n° 41-42-44 p 206

 **Définition 6 : Produit d'un vecteur par nombre entier**

Soit  $k \in \mathbb{N}$ .

**Le produit d'un vecteur  $\vec{u}$  par l'entier naturel  $k$**  est le vecteur associé à la translation résultant de  $k$  l'enchaînement successifs de la translation de vecteur  $\vec{u}$ . On le note  $k\vec{u}$ .

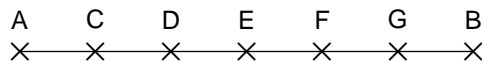
Le produit d'un vecteur  $\vec{u}$  par  $-k$  est le vecteur noté  $-k\vec{u}$ . C'est le vecteur opposé de  $k\vec{u}$ .

**Remarques :**

- Le vecteur  $k\vec{u}$  a la même direction et le même sens que le vecteur  $\vec{u}$ . Par contre, sa longueur est égale à  $k$  fois celle de  $\vec{u}$ .
- On étend cette définition de la multiplication d'une vecteur par un nombre entier relatif aux nombres réels.
- Les droites portées par les vecteurs  $\vec{u}$  et  $k\vec{u}$  sont parallèles (strictement ou confondues).
- On note  $\|\vec{u}\| = |k|\vec{u}$  où  $|k|$  désigne la distance à 0 du nombre  $k$  (c'est donc un nombre positif). Ce nombre  $|k|$  s'appelle valeur absolue de  $k$ .
- Si  $k = 0$ , on pose  $k\vec{u} = \vec{0}$ .

 **Exemple :**

Le segment  $[AB]$  est divisé en six parties de même longueur.



1. Compléter les relations suivantes par la lettre qui convient :

a.  $\vec{E...} = -2\vec{EF}$

b.  $\vec{C...} + \vec{...G} = \vec{0}$

c.  $\vec{AB} = -6 \dots$

2. Compléter les relations suivantes par le nombre qui convient :

a.  $\vec{AB} = \dots \vec{CE}$

b.  $\vec{AD} = \dots \vec{BF}$

c.  $\vec{BF} = \dots \vec{DE}$

d.  $\vec{CD} = \dots \vec{AB}$

 **Exercices du livre :**

n° 34-35-40 p 206 (k réel)

36-43 p 206 (k entier)

73 p 210 (correction de copies d'élèves)

57-58-62 p 209 (démonstrations géométriques)

60-63 p 209 (Chasles)

**Remarque :** On a vu que les vecteurs permettaient de décrire des déplacements rectilignes. Cependant, il serait bien pratique de décrire les vecteurs aussi !

Pour cela, on a vu que l'on pouvait se ramener à des parallélogrammes, ou encore utiliser le quadrillage. Cette dernière méthode fait penser que l'on pourrait peut-être décrire un vecteur par des coordonnées ...

### III) Le point sur les coordonnées d'un point

#### III-1 Se repérer dans le plan



**Définition 7 :**

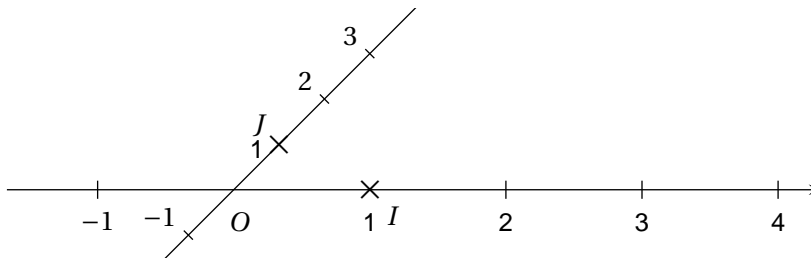
Définir un **repère du plan**, c'est choisir 3 points non alignés et dans un ordre précis :  $O, I, J$ .

On note ce repère  $(O, I, J)$ , et :

- Le point  $O$  est l'**origine** du repère
- La droite  $(OI)$  est l'**axe des abscisses** et le point  $I$  donne l'unité de cet axe
- La droite  $(OJ)$  est l'**axe des ordonnées** et le point  $J$  donne l'unité de cet axe



**Exemple :**



**Remarques :**

- L'axe des abscisses est souvent horizontal, mais ce n'est pas une obligation
- Si le triangle  $OIJ$  est rectangle en  $O$ , le repère  $(O, I, J)$  est dit **orthogonal**. Les axes du repères sont perpendiculaires.
- Si le triangle  $OIJ$  est rectangle et isocèle en  $O$ , le repère  $(O; I; J)$  est dit **orthonormé**. Les axes du repère sont perpendiculaires et ont la même unité. C'est ce type de repère que nous utiliserons la plupart du temps.



**Définition 8 : Propriété**

On considère un repère  $(O, I, J)$  du plan et un point  $M$  quelconque.

On peut décrire de manière unique la position du point  $M$  dans le repère par un couple  $(x_M, y_M)$  de nombres réels, appelés **coordonnées** de  $M$ . Le premier,  $x_M$ , est son **abscisse**. Le second,  $y_M$  est son **ordonnée**.

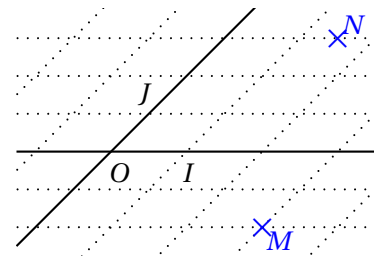
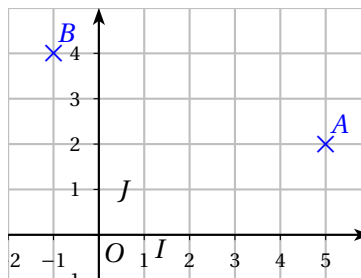
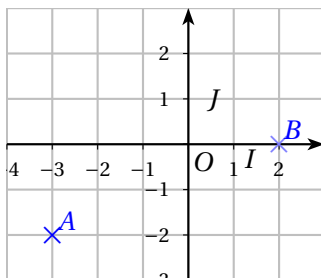
On les trouve comme suit :

- On trace les parallèles aux axes  $(OI)$  et  $(OJ)$  passant par le point  $M$ .
- Sur l'axe  $(OI)$  on lit l'abscisse  $x_M$  du point  $M$ .
- Sur l'axe  $(OJ)$  on lit l'ordonnée  $y_M$  du point  $M$ .



**Exemple :**

Lire les coordonnées des points dans les repères suivants :



**Exercices du livre :**

n° 3-30 p 160

### III-2 Coordonnées du milieu d'un segment

**Travail de l'élève 4.** Au vidéo-projecteur, sur géogébra, créer un 4 curseurs  $a, b, c$  et  $d$  prenant des valeurs entières comprises entre  $-5$  et  $5$ .

Créer les points  $A(a, b), B(c, d)$  puis le milieu du segment  $[AB]$ .

1. En utilisant les curseurs et en observant les coordonnées des points  $A, B$  et  $C$  dans la fenêtre « algèbre » compléter le tableau de valeurs suivant :

A	(4; 2)	(-3; 1)	(0; 5)	(1; -3)	(3; 0)	(-5; 4)	(2; -2)	(1; 1)
B	(2; 0)	(-5; -1)	(1; -3)	(3; -1)	(-4; 2)	(0; 0)	(-2; 2)	(-3; 5)
C								

2. Conjecturer des relations entre les coordonnées du milieu du segment et celles de ses extrémités.



**Définition 9 :**

- 3.

Si  $x$  et  $y$  sont deux nombres réels, la moyenne arithmétique de  $x$  et  $y$  est le réel  $\frac{x+y}{2}$ .

Enoncer la conjecture précédente en utilisant la notion de moyenne arithmétique de deux nombres.



**Propriété 3 :**

On considère dans le plan muni d'un repère  $(O, I, J)$  les points  $A(x_A; y_A)$  et  $B(x_B; y_B)$ .

Alors le milieu du segment  $[AB]$  a pour coordonnées  $(\frac{x_A + x_B}{2}; \frac{y_A + y_B}{2})$



**Preuve**

1<sup>er</sup> cas : Si  $x_A = x_B$  ou  $y_A = y_B$

On suppose par exemple que  $y_A = y_B$  et  $x_B > x_A$ . Alors :

$$M(x_M; y_M) \text{ est le milieu de } [AB] \iff y_M = y_A = y_B \text{ et } x_B - x_M = x_M - x_A$$

$$\iff y_M = \frac{y_A + y_B}{2} \text{ et } x_M = \frac{x_A + x_B}{2}$$

La démonstration se traite de même si  $x_B < x_A$  ou  $x_B = x_A$ .

2<sup>eme</sup> cas : Si  $x_A \neq x_B$  et  $y_A \neq y_B$

On pose  $C$  le point tel que  $x_C = x_B$  et  $y_C = y_A$ .

Soit  $K$  le milieu de  $[AC]$ . D'après le théorème des milieux, la droite  $(MK)$  est parallèle à  $(BC)$ .

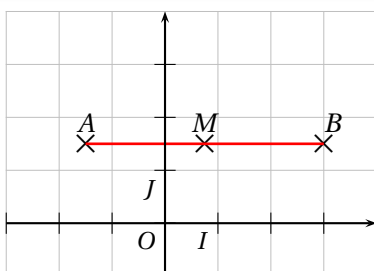
Donc  $x_M = x_K = \frac{x_A + x_C}{2} = \frac{x_A + x_B}{2}$  d'après la partie 1.

De même, on pose  $L$  milieu de  $[BC]$ . On a  $y_M = y_L = \frac{y_A + y_C}{2} = \frac{y_A + y_B}{2}$



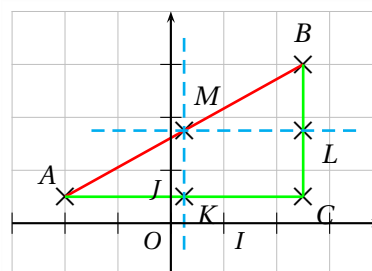
**Exemples :**

$A(-1.5; 1.5)$  et  $B(3; 1.5)$



$M(0.75; 1.5)$

$A(-2; 0.5)$  et  $B(2.5; 3)$



$M(0.25; 1.75)$



**Exercices du livre :**

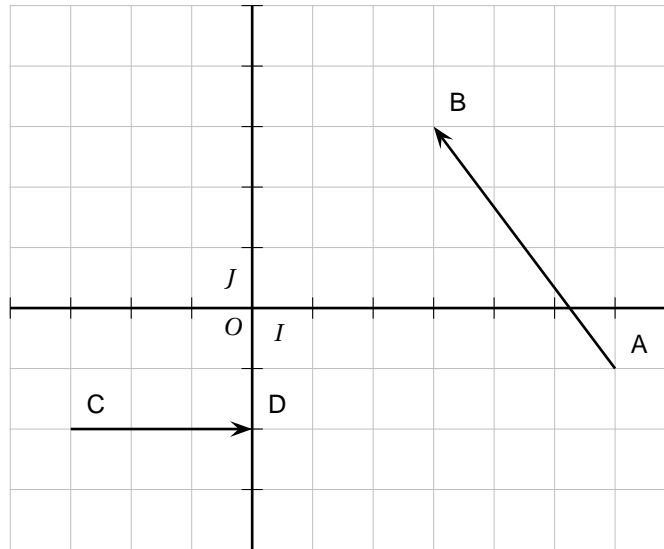
n° 7-8-9 p 160

n° 11-13 p 160 (ok avec vecteurs aussi)

**IV) Repérer un déplacement rectiligne**

**IV-1 Coordonnées d'un vecteur**

Travail de l'élève 5.



1. Construire sur la figure ci-dessus :

a. L'image  $M_1$  de  $O$  par la translation de vecteur  $\vec{AB}$

Quelles sont les coordonnées de  $M_1$  ?

Quel lien pouvez-vous faire avec le vecteur  $\vec{OM_1}$  ? avec le vecteur  $\vec{AB}$  ?

b. L'image  $M_2$  de  $O$  par la translation de vecteur  $\vec{CD}$

Quelles sont les coordonnées de  $M_2$  ?

Quel lien pouvez-vous faire avec le vecteur  $\vec{OM_2}$  ? avec le vecteur  $\vec{CD}$  ?

2. Compléter le tableau suivant avec les coordonnées :

Point de départ	$A(...;...)$	$C(...;...)$	$B(...;...)$	$D(...;...)$	$C(...;...)$	$D(...;...)$
Point d'arrivée	$B(...;...)$	$D(...;...)$	$A(...;...)$	$A(...;...)$	$B(...;...)$	$B(...;...)$
Vecteur associé	$\vec{AB}(...;...)$					

3. Conjecturer une formule sur les coordonnées de  $A$  et  $B$  pour trouver celle du vecteur  $\vec{AB}$

A partir de maintenant, on munit le plan d'un repère.



**Définition 10 :**

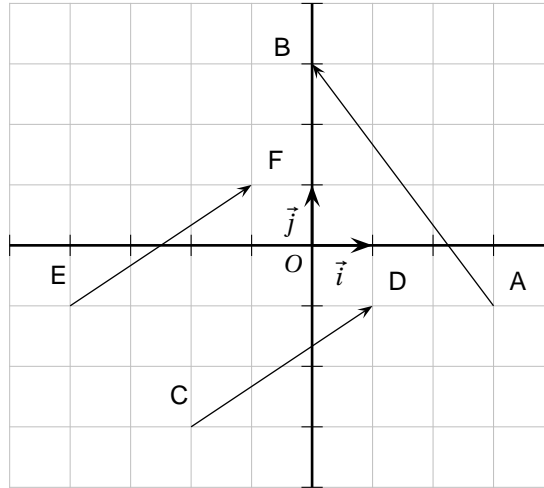
Soit  $\vec{u}$  un vecteur du plan. On appelle coordonnées du vecteur  $\vec{u}$  les coordonnées du point  $M$  tel que

$\vec{u} = \vec{OM}$ . Si  $M(x; y)$ , on note  $\vec{u}(x; y)$  ou encore  $\vec{u} \begin{pmatrix} x \\ y \end{pmatrix}$

**Remarques :**

- Le couple  $\vec{u} \begin{pmatrix} x \\ y \end{pmatrix}$  correspond également au déplacement effectué sur le quadrillage.
- Celles-ci sont donc indépendantes de l'origine du repère.
- Bien souvent, au lieu de noter  $(O; I; J)$  un repère, on notera  $(O; \vec{i}; \vec{j})$  avec  $\vec{i} = \vec{OI}$  et  $\vec{j} = \vec{OJ}$ .  
Il s'agit d'un repérage en deux dimensions (évoquer la droite et l'espace).

 **Exemple :**



Sur cette figure, on a  $\vec{AB}(-3;4)$ ,  $\vec{CD}(3;2)$  et  $\vec{EF}(3,2)$

 **Propriété 4 :**

Deux vecteurs sont égaux ssi ils ont les mêmes coordonnées dans un repère.

$$\vec{u}(x; y) = \vec{v}(x'; y') \iff x = x' \text{ et } y = y'$$

 **Preuve**

Soient deux vecteurs  $\vec{u}$  et  $\vec{v}$ .

On pose  $\vec{u} = \vec{OM}$  et  $\vec{v} = \vec{OM'}$ .

Ainsi  $\vec{u} = \vec{v}$  ssi  $M = M'$ , c'est-à-dire que  $M$  et  $M'$  ont les mêmes coordonnées. Autrement dit  $\vec{u}$  et  $\vec{v}$  ont les mêmes coordonnées.

 **Exemple :**

Dans l'exemple précédent, on a donc  $\vec{CD} = \vec{EF}$

 **Propriété 5 :**

Si  $A$  et  $B$  sont deux points de coordonnées respectives  $(x_A; y_A)$  et  $(x_B; y_B)$  alors les coordonnées du vecteur  $\vec{AB}$  sont

$$\vec{AB}(x_B - x_A; y_B - y_A)$$



**Preuve**

Dans un repère  $(O; \vec{i}; \vec{j})$ , on note  $M$  le point tel que  $\vec{AB} = \vec{OM}$ .  
 Alors  $[AM]$  et  $[OB]$  ont le même milieu  $I$ .  
 D'où  $x_I = \frac{x_B}{2}$  et  $y_I = \frac{y_B}{2}$  et  $x_I = \frac{x_A + x_M}{2}$  et  $y_I = \frac{y_A + y_M}{2}$ .  
 On en déduit que  $\frac{x_A + x_M}{2} = \frac{x_B}{2} \iff x_A + x_M = x_B \iff x_M = x_B - x_A$ .  
 De même on trouve  $y_M = y_B - y_A$ .  
 Donc  $\vec{OM}(x_B - x_A; y_B - y_A)$ . Comme  $\vec{AB} = \vec{OM}$  on a aussi  $\vec{AB}(x_B - x_A; y_B - y_A)$

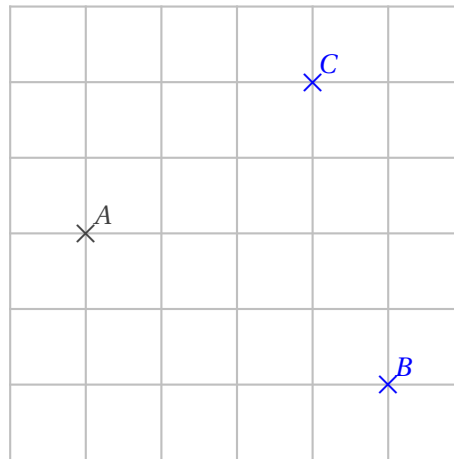
**Exemple :**

Soient  $A(2;3)$  et  $B(5;-4)$ . Alors  $\vec{AB}$  a pour coordonnées  $(3; -7)$ .

**IV-2 Distance et norme dans un repère orthonormé**

**Travail de l'élève 6.**

1. Calculer les distance  $AB$ ,  $AC$  et  $BC$  en prenant comme unité le côté d'un carreau du quadrillage.
2. On choisit un repère orthonormé  $(A, I, J)$  d'origine  $A$  tel que  $B(4; -2)$ .
  - a. Placer le repère  $(A, I, J)$  sur la figure.
  - b. Comparer  $AB$  et  $x_B^2 + y_B^2$ .
  - c. Vérifier que l'on a une relation analogue avec le point  $C$ .
3. Conjecturer une relation entre la distance  $BC$  et les coordonnées des points  $B$  et  $C$ .



**Propriété 6 :**

On considère un repère **orthonormé**  $(O, I, J)$  du plan et les points  $A(x_A; y_A)$  et  $B(x_B; y_B)$ .  
 La distance entre les points  $A$  et  $B$  est :

$$AB = \sqrt{(x_B - x_A)^2 + (y_B - y_A)^2}$$

l'unité de longueur étant celle commune aux deux axes.

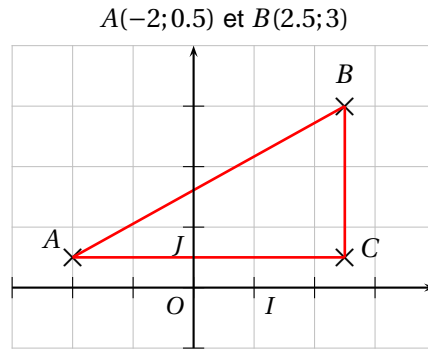
**Preuve**

On suppose que  $x_B > x_A$  et  $y_B > y_A$ . Les autres cas se traitent de même.  
 On note  $C$  le point tel que  $x_C = x_B$  et  $y_C = y_A$ .  
 Dans le triangle  $ABC$  rectangle en  $C$ , on a d'après le théorème de Pythagore :  $AB^2 = AC^2 + BC^2$ , ie :

$$AB^2 = (x_B - x_A)^2 + (y_B - y_A)^2$$

Comme  $AB$  est positif on a  $AB = \sqrt{(x_B - x_A)^2 + (y_B - y_A)^2}$ .

 **Exemple :**



$$AB = \sqrt{(2.5 - (-2))^2 + (3 - 0.5)^2} = \sqrt{4.5^2 + 2.5^2} = \sqrt{26.5} \approx 5.1$$

On en déduit immédiatement que :

 **Propriété 7 :**

Soit  $\vec{u}(x; y)$  un vecteur dans un repère **orthonormal**  $(O; \vec{i}; \vec{j})$ . Alors

$$\|\vec{u}\| = \sqrt{x^2 + y^2}$$

En particulier, on a pour  $A(x_A; y_A)$  et  $B(x_B; y_B)$  :

$$\|\vec{AB}\| = AB = \sqrt{(x_B - x_A)^2 + (y_B - y_A)^2}$$

 **Exemple :**

Dans l'exemple précédent, on avait  $\vec{AB}(3; -7)$ . Donc dans un repère orthonormé on a

$$\|\vec{AB}\| = AB = \sqrt{3^2 + (-7)^2} = \sqrt{9 + 49} = \sqrt{58}$$

 **Exercices du livre :**


n° 15-20-21 p 161 (distance)

n° 12-14-15-17-18 p 205 (norme)

Déclic : n° 22 p 231 (algo)


**IV-3 Opérations sur les vecteurs et coordonnées**

**Travail de l'élève 7.** A faire

 **Propriété 8 :**

Soient deux vecteurs  $\vec{u}$  et  $\vec{v}$  et  $k$  un nombre réel. Si  $\vec{u}(x; y)$  et  $\vec{v}(x'; y')$  alors :

$$\vec{u} + \vec{v} \text{ a pour coordonnées } (x + x'; y + y') \quad \text{et} \quad k\vec{u} \text{ a pour coordonnées } (kx; ky)$$

 **Exemple :**

On donne les points  $A(-3;1)$ ,  $B(5;2)$  et  $C(0;-1)$ .

1. Déterminer les coordonnées du vecteur  $\vec{u} = \vec{OA} + 1,5\vec{OB}$
2. Déterminer les coordonnées du vecteur  $\vec{v} = 5(\vec{AB} - 3\vec{OC})$
3. Déterminer les coordonnées du point  $M$  défini par  $\vec{AM} = 2\vec{OB} + 3\vec{OC}$

 **Exercices du livre :**

n° 20-21-22 p 205 (addition)

31-32-34-36-40 p 206

## V) Droites et colinéarité : Nouveau chapitre ??

### V-1 Vecteurs colinéaires

**Travail de l'élève 8.** Soit  $(O; \vec{i}; \vec{j})$  un repère du plan..

Soient cinq points  $A(2;5)$ ,  $B(-1,4)$ ,  $C(8;7)$ ,  $D(0;-4)$  et  $E(4,5;-0,5)$

1. Faire un schéma.
2.
  - a. Trouver les coordonnées des vecteurs  $\vec{AB}$  et  $\vec{ED}$ .
  - b. Exprimer le vecteur  $\vec{AB}$  en fonction du vecteur  $\vec{ED}$ .
  - c. Que peut-on en déduire sur la direction de ces deux vecteurs ? sur les droites  $(AB)$  et  $(ED)$  ?
3.
  - a. Trouver les coordonnées des vecteurs  $\vec{AB}$  et  $\vec{AC}$ .
  - b. Exprimer les vecteurs  $\vec{AB}$  en fonction du vecteur  $\vec{AC}$ .
  - c. Que peut-on en déduire sur la direction de ces deux vecteurs ? sur les droites  $(AB)$  et  $(AC)$  ?
  - d. Que peut-on alors en déduire pour les points  $A$ ,  $B$  et  $C$  ?



#### Définition 11 :

Deux vecteurs non nuls  $\vec{u}$  et  $\vec{v}$  sont dits colinéaires lorsqu'ils ont la même direction.



#### Théorème 1 :

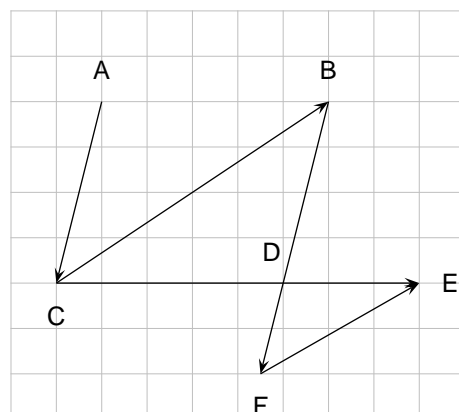
Deux vecteurs  $\vec{u}$  et  $\vec{v}$  sont colinéaires ssi il existe un réel  $k$  tel que  $\vec{u} = k\vec{v}$ .

Autrement dit, les vecteurs  $\vec{u} \begin{pmatrix} x \\ y \end{pmatrix}$  et  $\vec{v} \begin{pmatrix} x' \\ y' \end{pmatrix}$  sont colinéaires ssi leurs coordonnées sont proportionnelles.



#### Exemple :

Citer des vecteurs colinéaires de la figure ci-dessous et traduire par une relation vectorielle :



 **Exemples :**

$\vec{u} \begin{pmatrix} 3 \\ 4 \end{pmatrix}$  et  $\vec{v} \begin{pmatrix} 4.5 \\ 6 \end{pmatrix}$  sont-ils colinéaires ? Même question pour  $\vec{s} \begin{pmatrix} 3 \\ 4 \end{pmatrix}$  et  $\vec{g} \begin{pmatrix} -1 \\ -2 \end{pmatrix}$

 **Exercices du livre :**

n° 46-47 p 207

**V-2 Application à la géométrie** **Propriété 9 :**

Soient  $A, B, C$  et  $D$  quatre points du plan deux à deux distincts.

Les droites  $(AB)$  et  $(CD)$  sont parallèles ssi les vecteurs  $\vec{AB}$  et  $\vec{CD}$  sont colinéaires.

 **Corollaire 1 :**

Soient  $A, B$  et  $C$  trois points du plan deux à deux distincts.

Les points  $A, B$  et  $C$  sont alignés ssi les vecteurs  $\vec{AB}$  et  $\vec{AC}$  sont colinéaires.

 **Méthode**

Pour démontrer que trois points sont alignés, il suffit de démontrer que deux des vecteurs formés par les trois points sont colinéaires.

 **Exemple :**

On donne  $A(-4; -1)$ ,  $B(-1; 1)$ ,  $C(3; 3)$ ,  $D(-1; -3)$  et  $E(5; 1)$ .

1. Démontrer que les vecteurs  $\vec{AB}$  et  $\vec{DE}$  sont colinéaires.
2. En déduire la nature du quadrilatère  $ABED$
3. Les points  $A, B, C$  sont-ils alignés ?

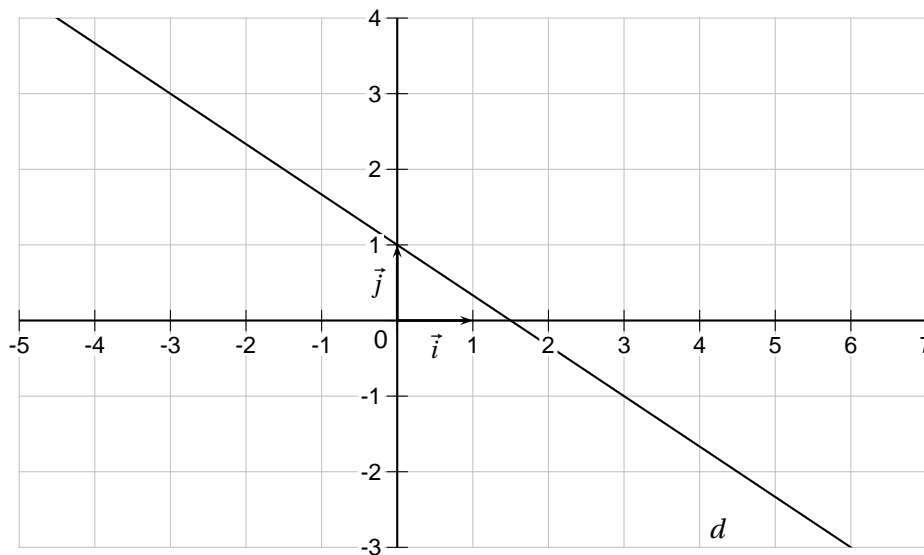
 **Exemple :**

Soit  $ABC$  un triangle et  $M$  tel que  $\vec{BM} = \frac{1}{3}\vec{BC}$  et  $N$  tel que  $\vec{AN} = 2\vec{AB} + \vec{AC}$ . Montrer que  $A, M$  et  $N$  sont alignés.

 **Exercices du livre :**

n° 49-50-51 p 207 + 38 p 182 Déclic : n° 68 p 307 + 80 + 81 p 309 (algo)

**V-3 Equation de droite****Travail de l'élève 9.**



1. Soit la droite  $d$  représentée ci-dessus.
  - a. Déterminer graphiquement la fonction affine qu'elle représente.
  - b. Dire si les points suivants appartiennent à  $d$  ou non.

$$A\left(-1; \frac{5}{3}\right) \quad B\left(100; -\frac{197}{3}\right) \quad C\left(0; \frac{1}{3}\right) \quad D(-3; 3)$$

- c. Calculer l'ordonnée du point  $E$  d'abscisse 0 appartenant à  $d$ .
  - d. Calculer l'abscisse du point  $F$  d'ordonnée 1 appartenant à  $d$ .
2. Soit  $d'$  la droite passant par  $K(3; 2)$  et de coefficient directeur  $\frac{1}{2}$ .
  - a. Tracer  $d'$  dans le repère ci-dessus.
  - b. Trouver par le calcul les coordonnées du point d'intersection de  $d'$  avec l'axe des ordonnées.
  - c. En déduire la fonction affine que  $d'$  représente, puis l'équation de  $d'$ .
3. Soient  $A(2; 0)$ ,  $B(2; -15)$  et  $E(2; 2010)$ .
  - a. Les points  $A$ ,  $B$  et  $C$  sont-ils alignés ?
  - b. La droite  $(AB)$  est-elle représentative d'une fonction affine ?
  - c. Soit  $M(x; y)$  un point du plan. Trouver une condition nécessaire et suffisante sur ses coordonnées pour que  $M \in (AB)$ .
  - d. Construire dans le repère les droites d'équation  $x = 0$ ,  $x = -3$  et  $x = \frac{7}{2}$ .

**Remarque :** Dans le plan muni d'un repère, une droite peut être :

- Soit parallèle à l'axe des ordonnées,
- Soit sécante à l'axe des ordonnées : c'est alors la courbe représentative d'une fonction affine.



**Propriété 10 :**

- Une droite  $d$ , parallèle à l'axe des ordonnées a une équation du type  $x = c$ , où  $c \in \mathbb{R}$ .
- Une droite  $d$  sécante à l'axe des ordonnées a une équation de la forme  $y = mx + p$ , où  $m$  et  $p$  sont des nombres réels.

**Remarque :** Cela signifie qu'un point  $A(x_A; y_A)$  appartient à  $d : y = mx + p$  si et seulement si  $mx_A + p = y_A$

**Définition 12 :**

Une équation de la droite  $d$ , de la forme  $y = mx + p$  est appelée **équation réduite** de  $d$ ,  $m$  son **coefficient directeur** et  $p$  son **ordonnée à l'origine**.

**Remarque :** L'équation réduite d'une droite est unique.

**Propriété 11 :**

Deux droites d'équation  $y = mx + p$  et  $y = m'x + p'$  sont parallèles ssi  $m = m'$ .

Si de plus,  $p = p'$ , alors elles sont confondues.

Deux droites d'équation  $x = c$  et  $x = c'$  sont toujours parallèles (puisque toutes deux parallèles à  $(Oy)$ ).

**Exemple :**

Les droites d'équation  $y = 36.5x - 54$  et  $y = 36.5x + \pi$  sont parallèles.

**Propriété 12 : Définition**

Soient  $A(x_A; y_A)$  et  $B(x_B, y_B)$  deux points.

Alors on dit que le vecteur  $\overrightarrow{AB} \begin{pmatrix} x_B - x_A \\ y_B - y_A \end{pmatrix}$  est un **vecteur directeur** de la droite  $(AB)$ .

De plus, si  $A$  et  $B$  n'ont pas la même abscisse (ie  $x_A \neq x_B$  ou encore  $(AB)$  non parallèle à l'axe des ordonnées) alors le coefficient directeur de la droite  $(AB)$  est

$$m = \frac{y_B - y_A}{x_B - x_A}$$

**Remarque :** On retrouve la fait que deux droites sont parallèles si et seulement si leur vecteur directeur sont colinéaires, puisque ceci équivaut à ce que leurs coordonnées soient proportionnelles.

**Exemple :**

Soient  $A(-1, 3)$  et  $B(4, 13)$ . On constate de suite que  $x_A \neq x_B$  donc  $(AB)$  n'est pas parallèle à l'axe des ordonnées et son équation est du type  $y = mx + p$ .

On commence alors par chercher son coefficient directeur :  $m = \frac{y_B - y_A}{x_B - x_A} = \frac{13 - 3}{4 - (-1)} = 2$ .

Donc on sait que  $y = 2x + p$ .

On cherche maintenant l'ordonnée à l'origine  $p$ . Pour cela, on utilise le fait que  $A \in (AB)$ .

En effet, on sait donc que ses coordonnées vérifient l'équation de la droite  $(AB)$ , ie

$$y_A = 2 \times x_A + p \iff 3 = 2 \times (-1) + p \iff 3 = -2 + p \iff p = 5$$

Finalement, on a  $(AB) : y = 2x + 5$

**Exercices du livre :**

n° 1-2-7-9-10-12-20-21-22-23-24-26-27 p180

**V-4 Intersection de droites****Propriété 13 :**

Soient deux droites  $d$  et  $d'$  d'équation  $y = mx + p$  et  $y = m'x + p'$ .

Les coordonnées de leur point d'intersection vérifient alors les deux équations de droite.

Autrement dit, ce sont les solutions du système

$$\begin{cases} y = mx + p \\ y = m'x + p' \end{cases}$$

**Exemple :**

Soient  $d : y = 2x - 3$  et  $d' : y = -x + 3$ . On voit de suite que  $m \neq m'$  donc les droites ne sont pas parallèles. Elles se coupent alors en un point.

Pour trouver les coordonnées de ce point, on résout :

$$\begin{cases} y = 2x - 3 \\ y = -x + 3 \end{cases}$$

On en déduit  $2x - 3 = -x + 3 \iff 3x = 6 \iff x = 2$ .

Et comme  $y = 2x - 3$  on trouve  $y = 1$ . Donc le point d'intersection de  $d$  et  $d'$  est le point de coordonnées (2; 1)

**Remarques :**

- On aurait tout aussi bien pu trouver  $y$  à partir de la deuxième équation.
- Lorsque les droites sont parallèles strictement, le système n'a pas de solution.
- Lorsque les droites sont confondues, le système a une infinité de solutions.

**Exercices du livre :**

n° 29-31-32-33-34 p 181