

Exercices

Exercice 1 :

Soient \mathcal{C}_1 et \mathcal{C}_2 deux cercles de centre O et de diamètres respectifs $[PQ]$ et $[MN]$. Faire un schéma.
Quelle est la nature du quadrilatère $MNPQ$?

Exercice 2 :

E, F, G et H sont quatre points tels que $(EF) \parallel (GH)$ et $(EH) \parallel (FG)$. Faire un schéma.
Quelle est la nature du quadrilatère $EFGH$?

Exercice 3 :

Placer trois points A, B et C non alignés.
Construire à la règle et au compas les parallélogrammes $ABCD$ et $ABDC$.

Exercice 4 :

Placer 4 points A, B, C et N non alignés.
Construire à la règle non graduée et au compas le représentant du vecteur \overrightarrow{AB} d'origine C et celui d'extrémité N .

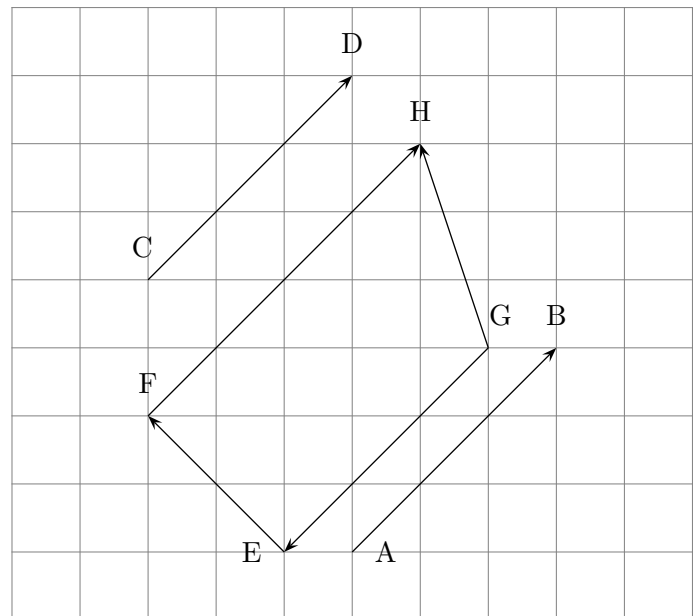
Exercice 5 :

A, B, O et O' sont quatre points distincts non alignés.
Soient C et D les symétriques respectifs de A et B par rapport à O .
 E et F les symétriques respectifs de A et B par rapport à O' .
Démontrer que $DCEF$ est un parallélogramme.

Exercice 6 :

Sur le dessin on a représenté six vecteurs.

1. Donner les vecteurs égaux, puis les vecteurs opposés.
2. Reproduire chacun des vecteurs avec pour origine le point F.



Exercice 7 :

$EFGH$ est un rectangle de centre I .

1. Construire le représentant d'origine G du vecteur $\vec{u} = \overrightarrow{EF} + \overrightarrow{GI} + \overrightarrow{FG}$.
2. Démontrer que $\vec{u} = \overrightarrow{EI}$.

Exercice 8 :

Soit ABC un triangle équilatéral de côté 1.5 cm.

1. Placer le point D tel que $\overrightarrow{AD} = 4\overrightarrow{AB}$
2. Placer le point E tel que $\overrightarrow{AE} = -3\overrightarrow{AB}$
3. Placer le point F tel que $\overrightarrow{AF} = 2\overrightarrow{BC}$

Exercice 9 :

Associer à chaque égalité vectorielle la phrase correspondante, et illustrer chaque cas par un schéma :

- | | |
|--|-----------------------------------|
| 1. $\overrightarrow{AD} = \overrightarrow{DB}$ | (a) $ABCD$ est un parallélogramme |
| 2. $\overrightarrow{AB} = \overrightarrow{CD}$ | (b) $ABDC$ est un parallélogramme |
| 3. $\overrightarrow{DC} = \overrightarrow{DA} + \overrightarrow{DB}$ | (c) D est le milieu de $[AB]$ |
| 4. $\overrightarrow{AD} = \overrightarrow{BC}$ | (d) $ADBC$ est un parallélogramme |

Exercice 10 :

Démontrer que pour tous points O, A et B on a $\overrightarrow{AB} = \overrightarrow{OB} - \overrightarrow{OA}$.

Exercice 11 :

Soit ABC un triangle. Simplifier au maximum l'écriture des vecteurs suivants :

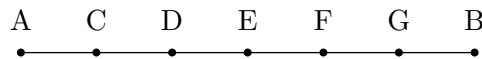
- | | |
|--|---|
| 1. $\vec{u} = \overrightarrow{AC} + \overrightarrow{BA} + \overrightarrow{CB}$ | 5. $\vec{s} = \overrightarrow{BA} + \overrightarrow{MA} - \overrightarrow{MB}$ |
| 2. $\vec{v} = \overrightarrow{DE} - \overrightarrow{DF} + \overrightarrow{EF} - \overrightarrow{ED}$ | 6. $\vec{z} = 2\overrightarrow{AC} - \overrightarrow{CB} + \overrightarrow{BA} - \overrightarrow{AB}$ |
| 3. $\vec{w} = \overrightarrow{AC} + \overrightarrow{BA} + 2\overrightarrow{CB}$ | Les vecteurs \vec{w} et \vec{z} ont-ils la même direction ? |
| 4. $\vec{t} = \overrightarrow{DE} - \overrightarrow{DF} + \overrightarrow{EF} - \overrightarrow{ED}$ | Justifier. |

Exercice 12 :

Soient A et B deux points tels que $AB = 5$ cm et le point M défini par : $-5\overrightarrow{MA} + 3\overrightarrow{MB} = \vec{0}$
 Déterminer le vecteur \overrightarrow{AM} en fonction du vecteur \overrightarrow{AB} et construire le point M


Exercice 13 :

Le segment $[AB]$ est divisé en six parties de même longueur.




Compléter les relations suivantes par :

- | | |
|---|---|
| La lettre qui convient : | Le nombre qui convient : |
| 1. $\overrightarrow{E\dots} = -2\overrightarrow{EF}$ | (a) $\overrightarrow{AB} = \dots \overrightarrow{CE}$ |
| 2. $\overrightarrow{C\dots} + \dots \overrightarrow{G} = \vec{0}$ | (b) $\overrightarrow{AD} = \dots \overrightarrow{BF}$ |
| 3. $\overrightarrow{AB} = -6\dots\dots$ | (c) $\overrightarrow{BF} = \dots \overrightarrow{DE}$ |

 **Exercice 14** :


Dans un repère orthonormé du plan on donne les points $A\left(\frac{1}{2}; \frac{2}{3}\right)$, $B\left(2; \frac{3}{4}\right)$, $C\left(-1; \frac{1}{2}\right)$ et $D(2; -3)$.

1. Calculer les coordonnées du milieu J de $[AB]$.
2. Les points B et C sont-ils symétriques par rapport au point A ?
3. Calculer la distance CD .

 **Exercice 15** :


Dans un repère orthonormé $(O; I; J)$ du plan on donne les points $A(2; 5)$ et $B(-5; 1)$.

1. Calculer les coordonnées du point M tel que O soit le milieu du segment $[AM]$
2. Calculer les coordonnées du point N tel que A soit le milieu du segment $[BN]$

 **Exercice 16** :


Dans un repère orthonormé $(O; I; J)$ du plan on donne les points $A(3; 1)$, $B(2; 4)$ et $C(-1; 3)$

1. Calculer les coordonnées du milieu I de $[BC]$.
2. En déduire les coordonnées du point E tel que $ABEC$ soit un parallélogramme.


 **Exercice 17** :

Dans un repère orthonormé $(O; I; J)$ du plan on donne les points $A(-2; 1)$, $B(2; -1)$ et $C(1; -3)$.

Démontrer que le triangle ABC est rectangle. Préciser l'angle droit.

 **Exercice 18** :


Dans un repère, on donne $\vec{u}(2; 3)$ et $A(-1; 4)$. Calculer les coordonnées du point B qui vérifie $\overrightarrow{AB} = \vec{u}$.

 **Exercice 19** :

Dans un repère $(O; \vec{i}; \vec{j})$, on donne les points $A(-2; 4)$, $B(-3; 5)$ et $D(4; 6)$.


Déterminer les coordonnées du point C tel que $ABCD$ soit un parallélogramme des deux façons suivantes :

1. Utiliser l'égalité $\overrightarrow{AB} = \overrightarrow{DC}$
2. Utiliser l'égalité $\overrightarrow{AC} = \overrightarrow{AB} + \overrightarrow{AD}$

 **Exercice 20** :


Dans un repère $(O; \vec{i}; \vec{j})$, on donne les points $A(2; -1)$, $B(3; 4)$ et $C(-5; 2)$.

Calculer les coordonnées du point M tel que : $\overrightarrow{MA} + \overrightarrow{MB} + \overrightarrow{MC} = \vec{0}$

 **Exercice 21** :

Dans le plan muni d'un repère $(O; \vec{i}; \vec{j})$, soient les vecteurs $\vec{u}(-4; 3)$ et $\vec{v}(1; -2)$ et le point $A(5; 3)$.

Déterminer les coordonnées $(x; y)$ du point M vérifiant $\overrightarrow{AM} = 3\vec{u} + 2\vec{v}$

 **Exercice 22** :

Dans le plan muni d'un repère $(O; \vec{i}; \vec{j})$, placer les points $A(-2; 4)$, $B(4; 2)$, $C(0; -1)$ et $D(-3; 0)$.

Soit E le milieu de $[AB]$. Déterminer la nature des quadrilatères $ABCD$ et $AECD$.